

Географик мәгълүматларның чыганаклары

292. Нинди материк экватор һәм башлангыч меридиан (нуленче меридиан) белән кисешә?

- 1) агымга
- 2) борынга
- 3) бугазга
- 4) ярымутрауга

293. Кайсы миллионер шәһәрнең географик координаталары 56° төньяк киңлек, 49° көнчыгыш озынлык.

294. Джордж Ванкувер – XVIII гасырда яшәгән инглиз диңгез йөзүчесе һәм тикшерүчесе. Джордж Ванкувер командалыгындагы экспедицияләр Көнъяк һәм Төнъяк Американың Тын океан яр буйларын өйрәнгән. Китерелгән географик объектларның кайсы бу диңгез сәяхәтчесе исеме белән аталган?

- 1) диңгез
 - 2) канал
 - 3) утрау
 - 4) агым
-

295. И.Д. Черский – Көнъяк, Көнчыгыш һәм Төнъяк Себерне, Ерак Төнъякны һәм Ерак Көнчыгышны өйрәнүче танылган тикшерүче. 1891 нче елда Черский Колыма һәм Индигирка елгалары бассейнындагы эле өйрәнелмәгән районга экспедиция оештыра. Аның Югары Колыма һәм Якутскидан жибергән язмаларында жирле халыкның тормышы, горөф-гадәтләре, элекке чордагы бозлану эзләре, тикшерелә торган территориянең рельефы турында күп яңа мәгълүматлар чагылыш таба. Китерелгән географик объектларның кайсына И.Д. Черский исеме бирелгән?

- 1) утрау
 - 2) бугаз
 - 3) диңгез
 - 4) сырт
-

296. Руал Амундсен–Антарктида һәм Арктиканы өйрәнүче танылган Норвегия галиме. Ул беренчеләрдән булып Төньяк-Көнбатыш юл буйлап Гренландиядән Аляскага кадәр бара һәм Төньяк магнит полюсның урынын (положениесен) билгели. 1926 нчы елда Р. Амундсен Шпицберген – Төньяк полюс – Аляска маршруты буйлап “Норвегия” дирижаблендә оча. Тын океандагы диңгез, Көнчыгыш Антарктидагы тау, Канада яр буйларындагы култык Норвегия сәяхәтчесенең исемен йөртә. Арктика картасындагы түбәндә бирелгән географик объектларның кайсы Р. Амундсен хөрмәтенә аталган?

- 1) су асты казанлыгы
 - 2) утрау
 - 3) бугаз
 - 4) океан агымы
-

297. Джеймс Уэдделл – Англия аучы-промышленнигы, Антарктиканы тикшерүче Уэдделл 1819–1823 нче елларда өч мәртәбә Антарктикага диңгез сәяхәте кылган «Джейн» судносы белән командалык итә. Ул Көнъяк Георгия, Көнъяк Оркнея утрауларын шәрехли һәм Көнъяк Шетланд утраулары турында беркадәр мәгълүмат бирә. Түбәндә китерелгән Антарктида картасындагы географик атамаларның кайсы Джеймс Уэдделл хөрмәтенә аталган?

- 1) култык
- 2) бугаз
- 3) диңгез
- 4) борын

298. Витус Беринг – бөек диңгез сәяхәтчесе һәм тикшерүчесе, 1725 – 1730 нчы елларда Камчаткага оештырылган беренче экспедиция белән житәкчелек итә. Экспедиция үз алдына Азия һәм Американы коры жир буйлап тоташтыручы юл - муен эзләү максаты куя. 1733–1741 нче елларда Бөек Төнъяк экспедициядә катнаша. Витус Беринг экспедициясе Тын океанны йөзеп чыгып,

Аляска яр буйларына кадәр житә. Түбәндә китерелгән географик объектларның кайсы В. Беринг хөрмәтенә аталган?

- 1) вулкан
 - 2) ярымутрау
 - 3) шарлавык
 - 4) диңгез
-
-

299. Кайсы шәһәрнең географик координаталары 23° көньяк киңлек, 17° көнчыгыш озынлык булуын ачыклагыз.

300. Воронеж өлкәсе территорияләрен жентеклерәк өйрәнү өчен Россиянең кайсы географик картасын сайларга кирәк?

- 1) Идел буе
 - 2) Үзәк Россия
 - 3) Россиянең Төньяк-Көнбатышы
 - 4) Урал
-

301. Кайсы дәүләт башкаласының географик координатлары 35° төньяк киңлек, 140° көнчыгыш озынлык?

302. Руал Амундсен–Антарктида һәм Арктиканы өйрәнүче танылган Норвегия галиме. Ул беренчеләрдән булып Төньяк-Көнбатыш юл буйлап Гренландиядән Аляскага кадәр бара һәм Төньяк магнит полюсның урынын (положениесен) билгели. 1911 нче елда ул беренчеләрдән булып Жирнең Көнъяк полюсына барып житә. Түбәндә бирелгән гидрографик объектларның кайсы Р.Амундсен хөрмәтенә аталган?

- 1) диңгез
 - 2) елга
 - 3) бугаз
 - 4) күл
-
-

303. У. Баффин–Англия диңгез сәяхәтчесе, Арктиканы тикшерүче. Атлантикадан Тын океанга Төньяк–Көнбатыш диңгез юлын ачу максаты белән төзелгән экспедиция составында ул Гренландиянең көнбатыш яр буйларын тикшерә. 1615 нче елда «Дискавери» кораблендә экспедиция Гудзон култыгын һәм Саутгемптон утравының көнчыгыш яр буйларын тикшерә. Сәяхәт нәтижәсендә Гренландиядә Хейс ярымутравын, Канада Арктика архипелагыннан арасыннан берсе Баффин хөрмәтенә аталган утрауларны ачалар. Түбәндә бирелгән Төньяк Америка картасындагы географик объектларның кайсы бу тикшерүче исеме белән аталган?

- 1) сырт
- 2) бугаз
- 3) диңгез
- 4) шарлавык

304. Географик координатлары 38° төньяк киңлек, 58° көнчыгыш озынлык булган шәһәрне билгеләгез.

305. Дәүләтнең башкаласы булган кайсы шәһәрнең географик координатлары 54° т.к. 28° көнчыгыш озынлык?

306. Дәүләтнең башкаласы булган кайсы шәһәрнең географик координатлары 47° т.к. 40° көнчыгыш озынлык?

307. Абель Тасман географик ачышлар һәм тикшеренүләр тарихына нинди өлеш кертә?

- 1) Үзәк Америкадагы утрауны ача һәм өйрәнә.
 - 2) Беренче булып дөнья тирәли сәяхәт кыла.
 - 3) Европалылар арасыннан беренче булып, Африканың үзәк районнарына кадәр барып жи э.
 - 4) Яңа Зеландия утравын ача һәм Австралиянең төньяк – көнбатыш яр буйларын өйрәнә.
-

308. РФ составындагы республиканың башкаласы булган кайсы шәһәрнең географик координатлары 54° төньяк киңлек,

91° көнчыгыш озынлык?

309. Джеймс Кук географик ачышлар тарихына нинди өлөш кертә?

- 1) Австралиянең көнчыгыш яр буйларын өйрәнә һәм картага кертә.
 - 2) Европалылардан беренче булып Төньяк Америка яр буйларына барып житә.
 - 3) Беренчеләрдән булып дөнья тирәли сәяхәт ясый.
 - 4) Европалылардан беренче булып Һиндстан яр буйларына барып житә.
-

310. РФ составындагы республиканың башкаласы булган кайсы шәһәрнең географик координатлары 62° төньяк киңлек, 34° көнчыгыш озынлык?

311. Өлкә үзәге булып торган кайсы шәһәрнең географик координатлары 47° төньяк киңлек, 143° көнчыгыш озынлык?

312. Кайсы шәһәрнең географик координатлары 52° төньяк киңлек, 114° көнчыгыш озынлык булуын ачыклагыз.

313. Абель Тасман зур өлеш керткән тикшеренү -

- 1) Гарәбстан ярымутравы
 - 2) Яна Зеландия утраулары
 - 3) Калифорния ярымутравы
 - 4) Яна Жир утраулары
-

314. Кайсы шәһәрнең (РФ субъектының административ үзәге) географик координатлары 53° төньяк киңлек, 50° көнчыгыш озынлык булуын ачыклагыз.

315. Кайсы шәһәрнең (РФ субъектының административ үзәге) географик координатлары 69° төньяк киңлек, 33° көнчыгыш озынлык булуын ачыклагыз.

316. Кайсы шәһәрнең географик координатлары 8° көньяк киңлек, 13° көнчыгыш озынлык булуын ачыклагыз.

317. Дөнья тирәли беренче сәяхәт кылган экспедиция белән командалык иткән диңгез сәяхәтчесе кем?

- 1) Васко да Гама
 - 2) Фернан Магеллан
 - 3) Христофор Колумб
 - 4) Джеймс Кук
-

318. Кайсы шәһәрнең географик координатлары 22° көньяк киңлек, 88° көнчыгыш озынлык булуын ачыклагыз.

319. Кайсы шәһәрнең географик координатлары 64° төньяк киңлек, 22° көнбатыш озынлык булуын ачыклагыз.

320. Кайсы миллионер шәһәрнең географик координатлары 56° төньяк киңлек, 44° көнчыгыш озынлык булуын ачыклагыз.

321. Кайсы шәһәрнең географик координатлары 64° төньяк киңлек, 177° көнчыгыш озынлык булуын ачыклагыз.

322. Давид Ливингстон географик ачышлар һәм тикшерүләр тарихына нинди өлеш кертә?

- 1) Үзәк Америкада бер төркем утрауларны ача һәм тикшерә.
- 2) Беренчеләрдән булып дөнья тирәли сәяхәт кыла.
- 3) Европалылардан беренче булып Африканың үзәк районнарына барып җитә.

- 4) Яңа Зеландия утрауларын ача һәм Австралиянең төньяк-көнбатыш яр буйларын тикшерә.
-

323. Дәүләтнең башкаласы булган кайсы шәһәрнең географик координатлары 39° төньяк киңлек, 116° көнчыгыш озынлык булуын ачыклагыз.

324. Кайсы шәһәрнең географик координатлары 41° төньяк киңлек, 4° көнбатыш озынлык булуын ачыклагыз.

325. Кайсы шәһәрнең (РФ субъектының административ үзәге) географик координатлары 59° төньяк киңлек, 151° көнчыгыш озынлык булуын ачыклагыз.

326. Кайсы шәһәрнең географик координатлары 49° төньяк киңлек, 4° көнчыгыш озынлык булуын ачыклагыз.

327. Кайсы шәһәрнең географик координатлары 16° көньяк киңлек, 48° көнбатыш озынлык булуын билгеләгез.

328. РФ составындагы республика башкаласы булып торган кайсы шәһәрнең географик координатлары 62° төньяк киңлек, 129° көнчыгыш озынлык булуын билгеләгез.

329. Кайсы вулканның географик координатлары 3° көньяк киңлек, 37° көнчыгыш озынлык булуын билгеләгез.

330. Кайсы шәһәрнең географик координатлары 12° көньяк киңлек, 131° көнчыгыш озынлык булуын билгеләгез.

331. Кайсы шәһәрнең географик координатлары 37° төньяк киңлек, 3° көнчыгыш озынлык булуын билгеләгез.

332. Кайсы шәһәрнең (РФ субъектының административ үзәгенә) географик координатлары 55° төньяк киңлек, 83° көнчыгыш озынлык булуын билгеләгез.

333. Кайсы шәһәрнең географик координатлары 30° төньяк киңлек, 90° көнбатыш озынлык булуын билгеләгез.

334. Дөнья тирәли сәяхәтне беренчеләрдән булып кем кылган?

335. Б.А. Вилькицкий гидрографик тикшеренүләр белән шөгылләнә.

1914–1915 нче ул экспедиция белән житәкчелек итә. Экспедициянең максаты - Камчаткадан Архангельска кадәр Төньяк диңгез юлын үтү була. Экспедиция барышында дүрт зур утраудан торган һәм Төньяк Жир дип аталачак гаять зур архипелаг ачыла. Әлеге танылган диңгез сәяхәтчесенең исеме

географик картада кала. Россия картасында санап кителгән географик объектларның кайсы Б.А. Вилькицкий хөрмәтенә аталган?

- 1) диңгез
 - 2) бугаз
 - 3) күл
 - 4) ярымутрау
-

337. Күпчелек жылларнең юнәлешен билгеләү өчен нинди карта алырга кирәк?

- 1) физик
 - 2) климатик
 - 3) табигый зоналар
 - 4) сейсмик пояслар
-

338. Июль ае жылларенең юнәлешен өйрәнер өчен, Евразиянең кайсы картасын сайларга кирәк?

- 1) физик
 - 2) политик
 - 3) климатик
 - 4) табигый зоналар
-

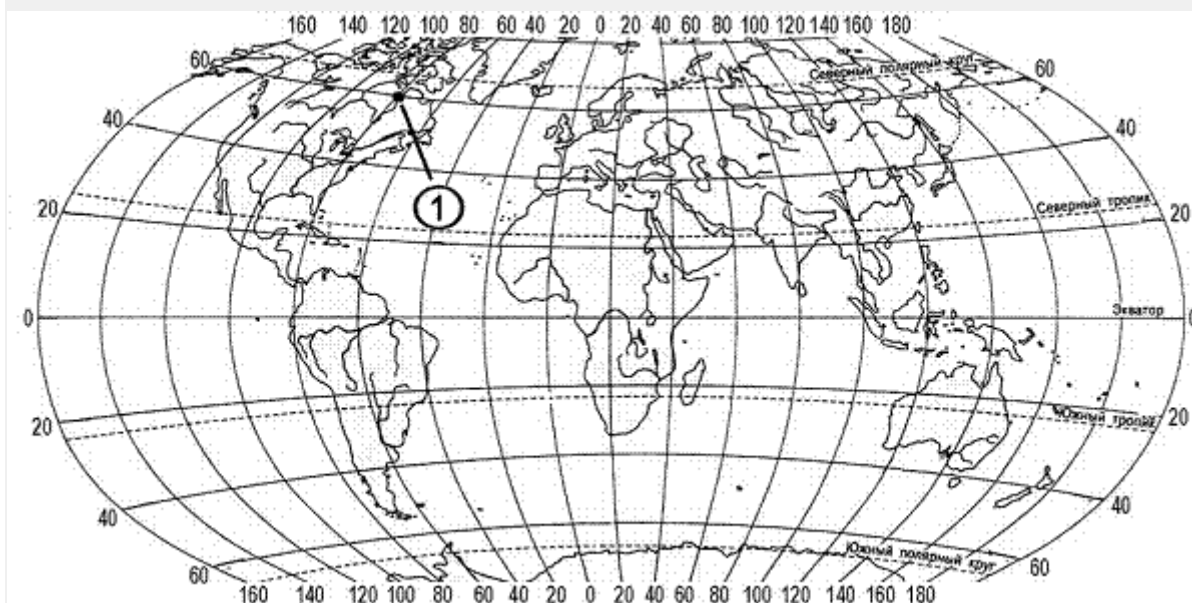
339. Кайсы шәһәрнең географик координатлары 52° төньяк киңлек, 55° көнчыгыш озынлык булуын билгеләгез.

340. Дәүләтнең башкаласы булган кайсы шәһәрнең географик координатлары 52° төньяк киңлек, 21° көнчыгыш озынлык булуын ачыклагыз.

341. Беренче дөнья тирәли сәяхәт кылган экспедиция белән кайсы диңгез сәяхәтчесе житәкчелек иткән?

- 1) Христофор Колумб
 - 2) Фернан Магеллан
 - 3) Васко да Гама
 - 4) Америго Веспуччи
-
-

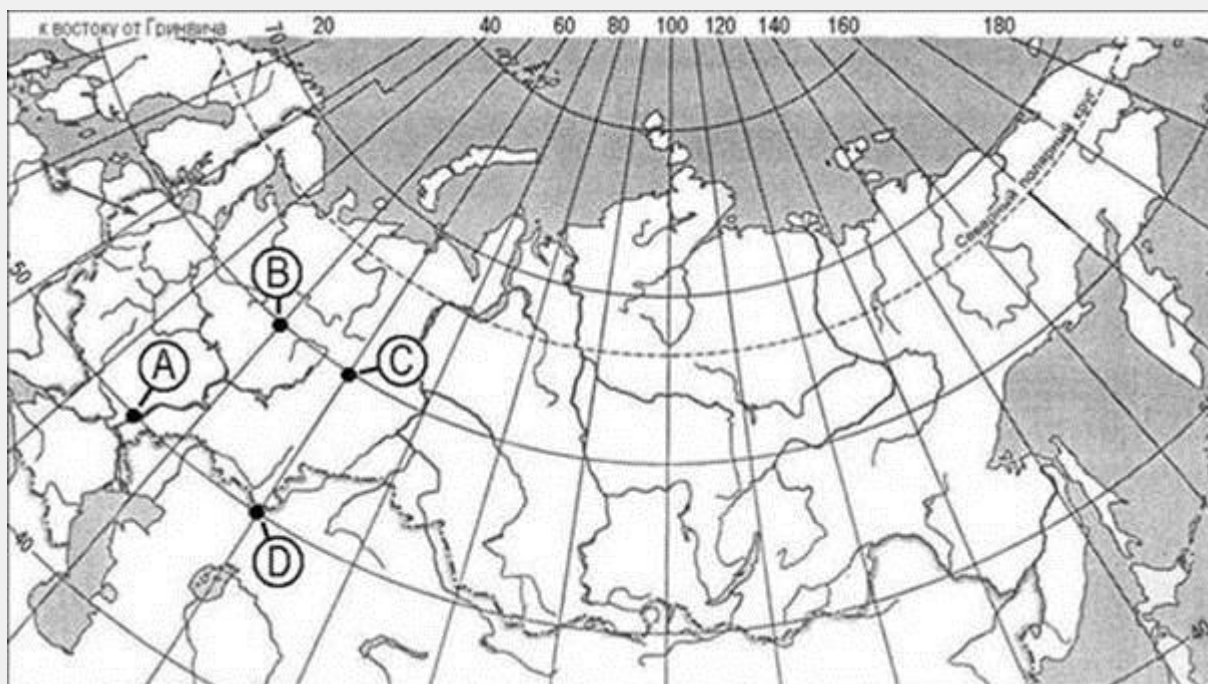
342. Картада 1 цифры белэн билгелэнгэн нокта нинди географик координатларга ия?



- 1) 60° к.к. һәм 80° көнч.о.
- 2) 60° к.к. һәм 80° көнб.о.
- 3) 60° т.к. һәм 80° көнб.о.

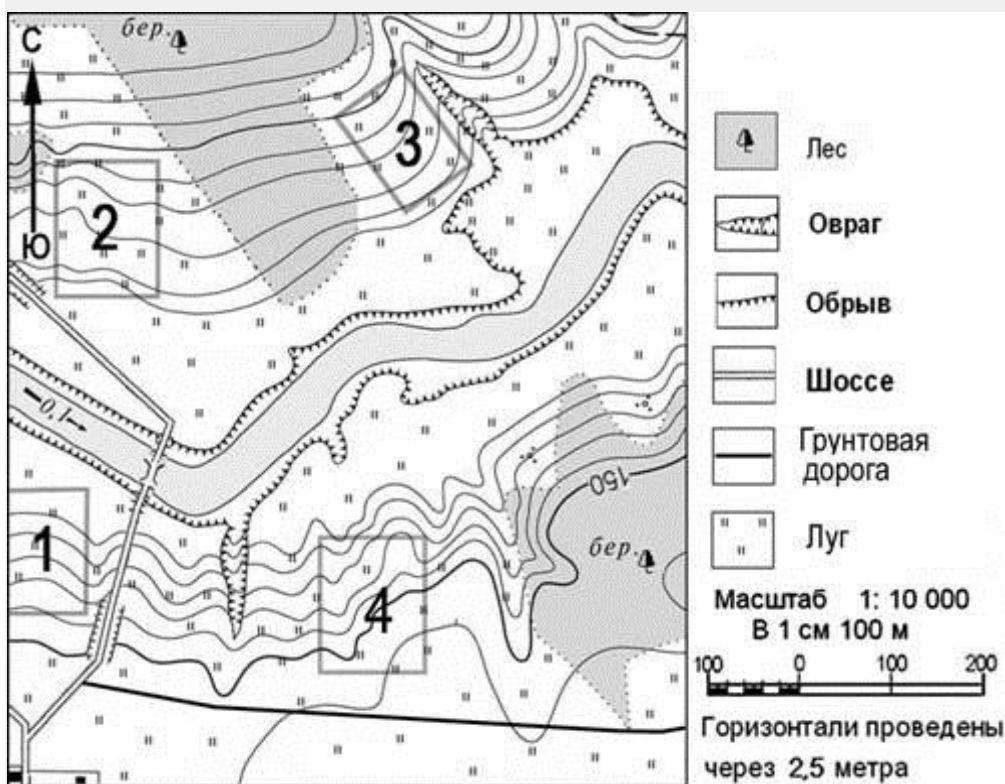
4) 60° т.к. һәм 80° көнч.о.

344. Картада хәрефләр белән билгеләнгән кайсы ноктаның географик координатлары 50° т.к. 60° көнч.о.?



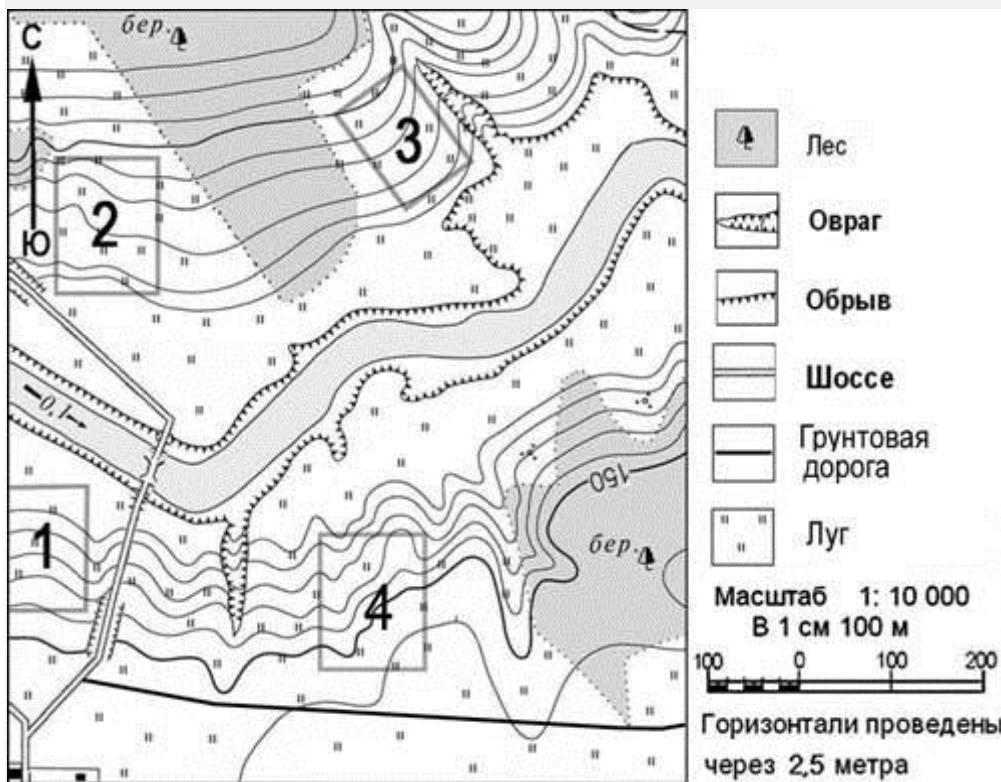
- 1) A
 - 2) B
 - 3) C
 - 4) D
-

345. Фермер жыләк-жимеш бакчасы үстерү өчен жир эзли. Аңа иртә язда кары эри, жәен Кояш туфрагын бик яхшы жылыта торган участок кирәк. Участок шулай ук жыелган уңышны консерв заводына чыгару өчен дә уңайлы булырга тиеш. Картада цифрлар белән бирелгән участокларның кайсы әлеге таләпләргә жавап бирә?

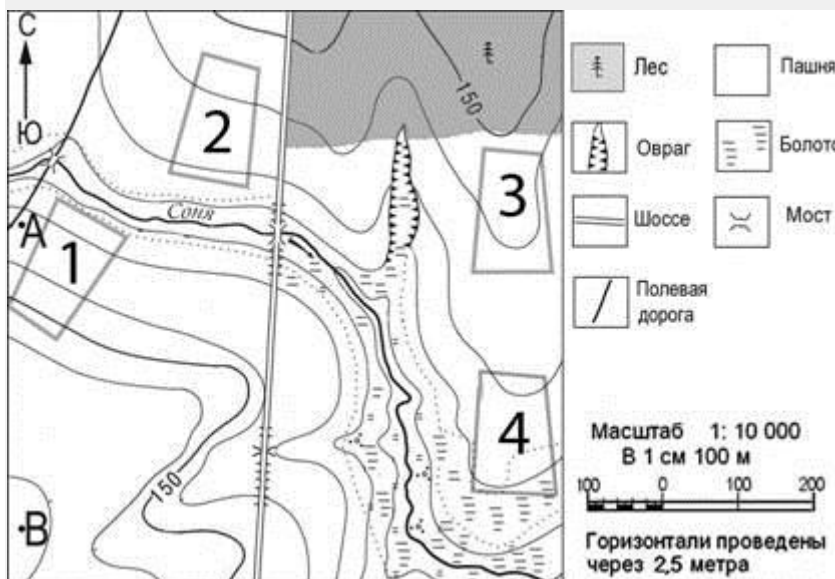


- 1) 1
- 2) 2
- 3) 3
- 4) 4

346. Фермер жыләк-жимеш бакчасы үстерү өчен жир эзли. Аңа иртә язда кары эри, жәен Кояш туфрагын бик яхшы жылыта торган участок кирәк. Участок шулай ук жыелган уңышны консерв заводына чыгару өчен дә уңайлы булырга тиеш. Картада цифрлар белән бирелгән участокларның кайсы әлеге таләплргә жавап бирә?



Фермер



- 1) 1
 - 2) 2
 - 3) 3
 - 4) 4
-

347. Картада А хэрефе белэн бирелгэн нокта нинди географик



координаталарга ия?

- 1) 45° т. к. 10° көнч.о.
- 2) 45° т. к. 10° көнб.о.
- 3) 10° т. к. 45° көнч.о.
- 4) 10° т. к. 45° көнб.о.

348. Кайсы шәһәрнең географик координатлары 50° т.к. 127° көнч.о?

349. Кайсы ил башкаласының географик координатлары 33° т.к. 44° көнч.о?

350. Кайсы ил башкаласының географик координатлары 6° к.к. 107° көнч.о?

351. Түбән Новгород өлкәсенең географик үзенчәлекләрен өйрәнү өчен Россиянең кайсы географик районы картасын сайларга кирәк?

1) Урал

2) Үзәк Россия

3) Россиянең Европа өлеше төньягы

4) Россиянең Европа өлеше көньягы

352. РФ составындагы республика башкаласы булып торган кайсы шәһәрнең географик координатлары 56° төньяк киңлек, 49° көнчыгыш озынлык булуын билгеләгез.

353. РФ составындагы республика башкаласы булып торган кайсы шәһәрнең географик координатлары 52° төньяк киңлек, 108° көнчыгыш озынлык булуын билгеләгез.

354. Кайсы шәһәрнең (РФ субъектының административ үзәгенең) географик координатлары 45° төньяк киңлек, 42° көнчыгыш озынлык булуын билгеләгез.

355. Өлкә үзәге булган кайсы шәһәрнең географик координаталары 52° төньяк киңлек, 46° көнчыгыш озынлык булуын билгеләгез.

356. Өлкә үзәге булган кайсы шәһәрнең географик координаталары 49° төньяк киңлек, 45° көнчыгыш озынлык булуын билгеләгез.

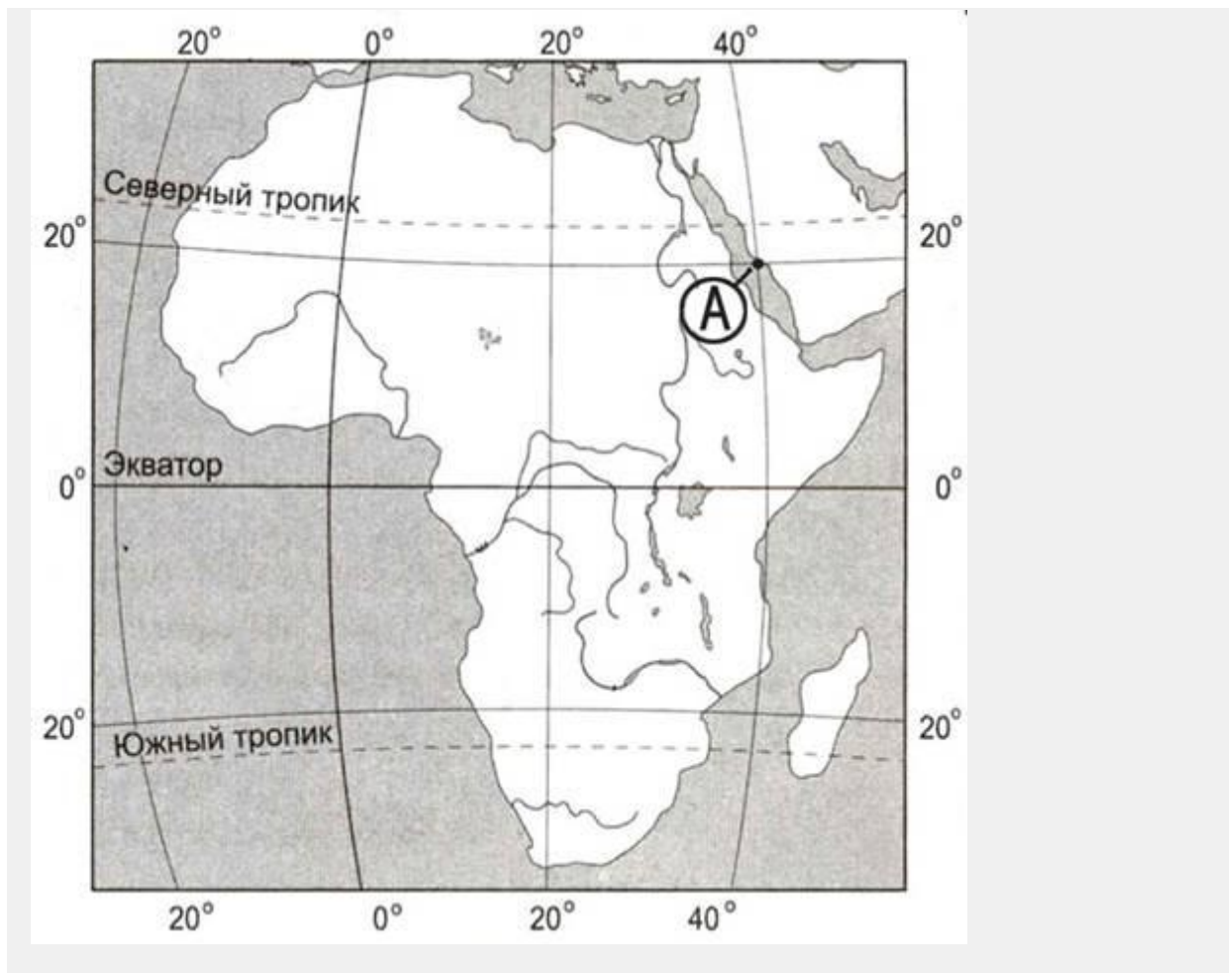
357. Өлкә үзәге булган кайсы шәһәрнең географик координаталары 65° төньяк киңлек, 41° көнчыгыш озынлык булуын билгеләгез.

358. Кайсы шәһәрнең географик координаталары 54° төньяк киңлек, 91° көнчыгыш озынлык булуын билгеләгез.

359. Кемерово өлкәсенең географик үзенчәлекләрен өйрәнү өчен Россиянең кайсы географик районы картасын алырга кирәк?

- 1) Урал
 - 2) Идел буе
 - 3) Көнбатыш Себер
 - 4) Россиянең төньяк Европа өлеше
-

360. Картада А хәрефе белән билгеләнгән ноктаның географик координатлары нинди булыр?



- 1) 40° т.к. 20° көнб.о.
- 2) 40° т.к. 20° көнч.о.
- 3) 20° т.к. 40° көнб.о.
- 4) 20° т.к. 40° көнч.о.

361. Географик координаталары 7° көньяк киңлек, 141° көнчыгыш озынлык булган географик объектның кайсы утрауда урнашуын билгеләгез.

362. Дәүләт башкаласы булып торган кайсы шәһәрнең географик координаталары 48° төньяк киңлек, 108° көнчыгыш озынлык булуын билгеләгез.

363. Дәүләт башкаласы булып торган кайсы шәһәрнең географик координаталары 53° төньяк киңлек, 6° көнбатыш озынлык булуын билгеләгез.

364. Географик координаталары 35° төньяк киңлек, 25° көнчыгыш озынлык булган географик объектның кайсы утрауда урнашуын билгеләгез.

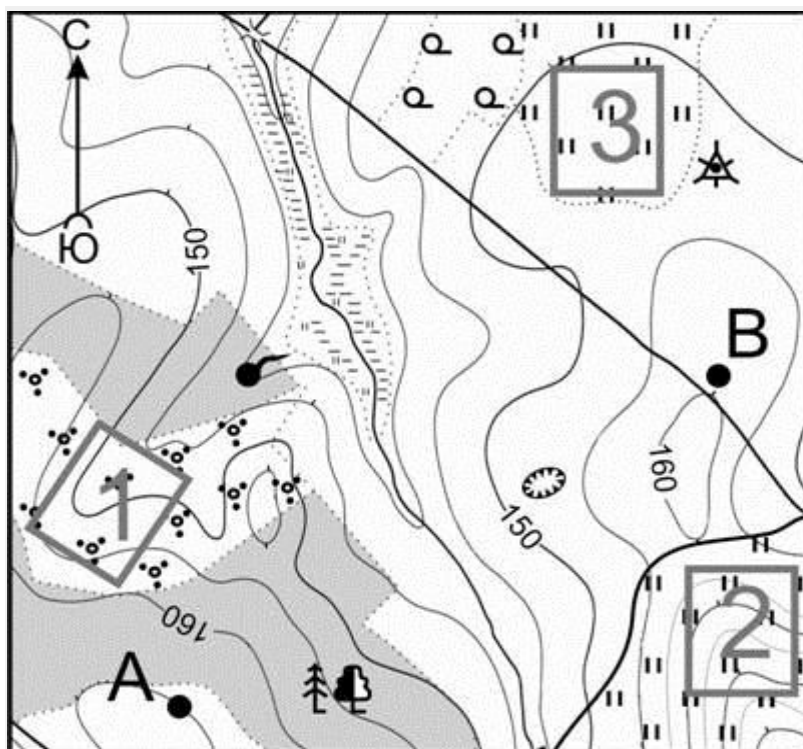
365. Географик координаталары 19° көньяк киңлек, 47° көнчыгыш озынлык булган географик объектның кайсы утрауда урнашуын билгеләгез.




366. Дәүләт башкаласы булып торган кайсы шәһәрнең географик координаталары 24° төньяк киңлек, 91° көнчыгыш озынлык булуын билгеләгез.


367. Автономияле округның административ үзәге булып торган кайсы шәһәрнең географик координаталары 61° төньяк киңлек, 69° көнчыгыш озынлык булуын билгеләгез.

368. Дәүләт башкаласы булып торган кайсы шәһәрнең географик координаталары 16° көньяк киңлек, 68° көнбатыш озынлык булуын билгеләгез.

369. Дәүләт башкаласы булып торган кайсы шәһәрнең географик координаталары 47° төньяк киңлек, 19° көнчыгыш озынлык улуын билгеләгез.



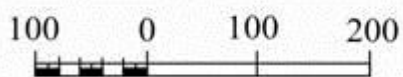
-  Яма
-  Родник
-  Геодезический знак

 Кустарник

 Редкие леса

 Лес

 Луг

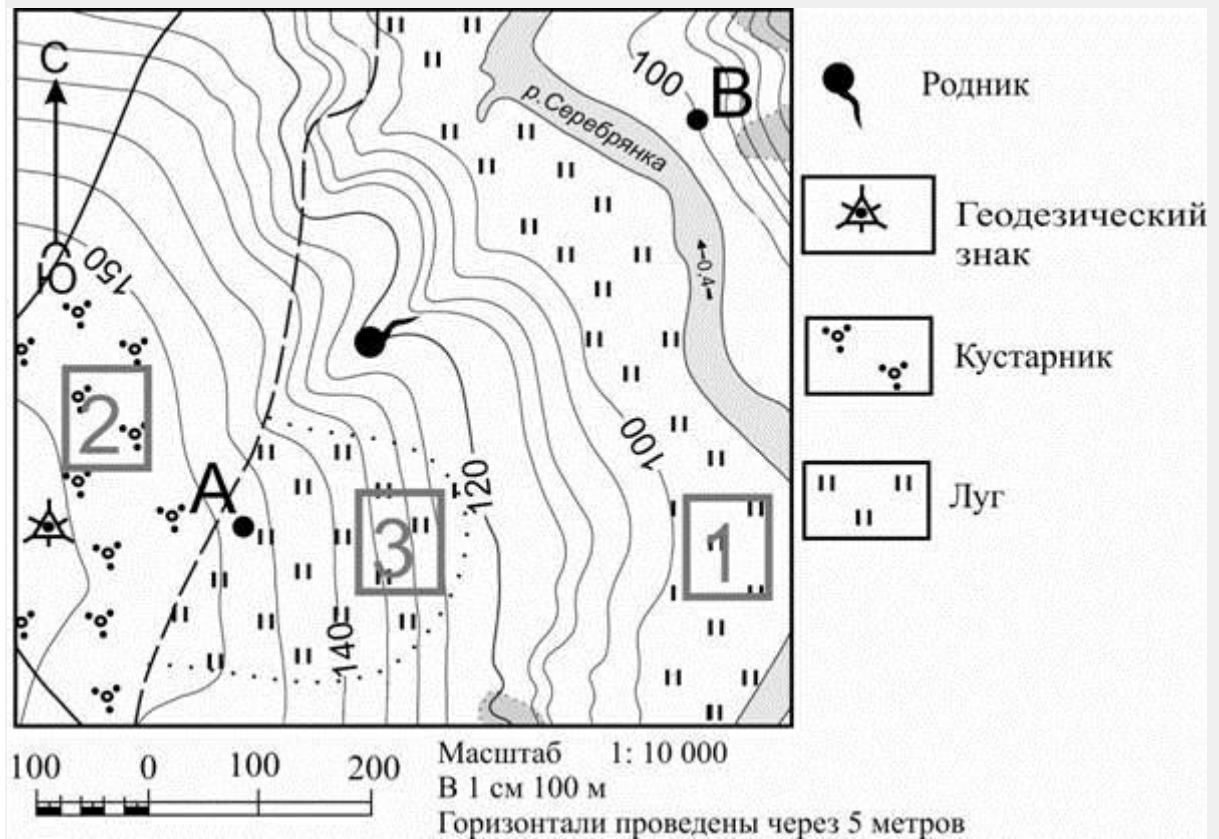


Масштаб 1: 10 000


В 1 см 100 м

Горизонталы проведены через 5 метров

370. Карта буенча геодезик билгедән А ноктасына кадәрге туры юлдан булган аралыкны ачыклагыз. Үлчәүне шартлы билгеләрнең үзәкләре арасыннан үткәрегез. Нәтижәгезне дистә метрга кадәр түгәрәкләгез. Жавабыгызны сан белән языгыз.




371. Рәсемдә карта нигезендә А-В линияләре буенча төрле укучылар тарафыннан төзелгән урын рельефы профиленең вариантлары бирелгән. Профильләрнең кайсы дәрес төзелгән?



2)



3)



4)



372. Карта буенча урында геодезик билгедән А ноктасына кадәрге туры буенча араны билгеләгез. Үлчәүне шартлы билгеләрнең үзәкләре арасынан уздырыгыз. Алынган нәтижәләрегезне дистә метрга кадәр түгәрәкләгез. Җавабыгызны сан белән языгыз.

373. Мәктәпнең футбол секциясенә йөрүчеләр футбол уйнау өчен урын сайлыйлар. Картада 1, 2 һәм 3 цифрлары белән бирелгән мәйданның кайсы футбол уйнау өчен уңайлырак? Җавабыгызны нигезләү өчен ике дәлил китерегез.

Җавабыгызны аерым биткә яки бланкка языгыз, б шта

биремегезнең номерын күрсәтегез.

375. Сокольск агач эшкәртү комбинат (Сокол шәһәре, Вологодск өлкәсе) илдә беренчеләрдән булып, клейлы брус житештерү технологиясен үзләштергән. Заводның проект егәрлеге - елга 100 000 м³ клейлы агач материалы. Бу клейлы брус һәм балка житештерү буенча Россиядәге иң эре предприятияләрнең берсе (12 м га кадәр).

Вологод өлкәсенең кайда урнашуын ачыклау өчен, Россиянең кайсы географик районы картасы кирәк?

- 1) Европа Төньягы
- 2) Көнчыгыш Себер
- 3) Көнбатыш Себер
- 4) Урал

376. Вологод өлкәсендәге табигый ресурс базасының нинди үзенчәлеге клейлы брус һәм балка житештерүне өзлексез алып барырылык чимал белән тәэмин итәргә мөмкинлек бирә?

Жавабыгызны аерым биткә яки бланкка языгыз, башта биремегезнең номерын күрсәтегез.

377. Кемерово өлкәсенең урнашу урынын ачыклау өчен, Россиянең кайсы географик районы картасын сайларга кирәк?

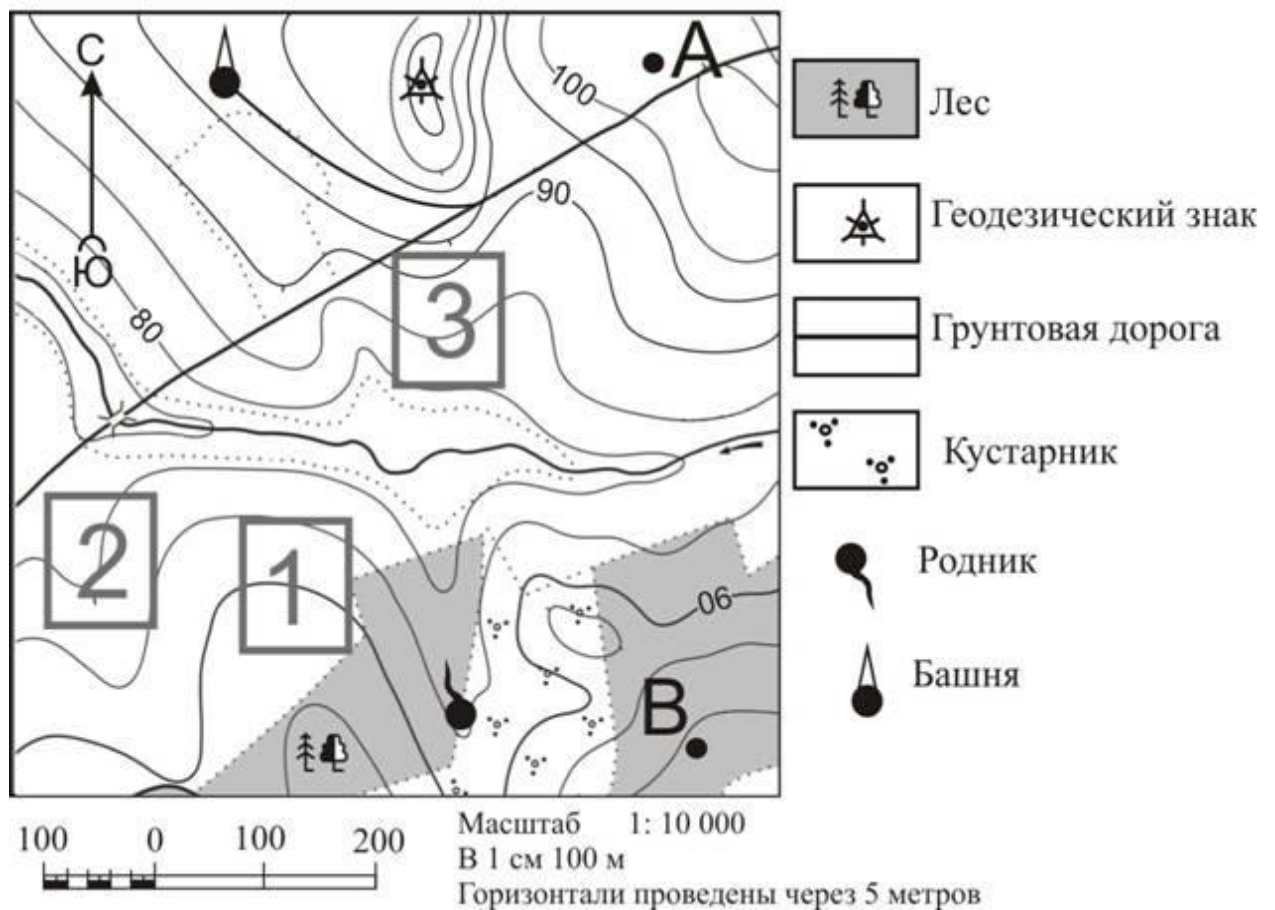
- 1) Ерак Көнчыгыш
- 2) Көнчыгыш Себер
- 3) Көнбатыш Себер
- 4) Урал

378. Петрозаводск шәһәренең урнашу урынын ачыклау өчен, Россиянең кайсы географик районы картасын сайларга кирәк?

- 1) Идел буе
 - 2) Европа Төньягы
 - 3) Урал
 - 4) Үзәк Россия
-

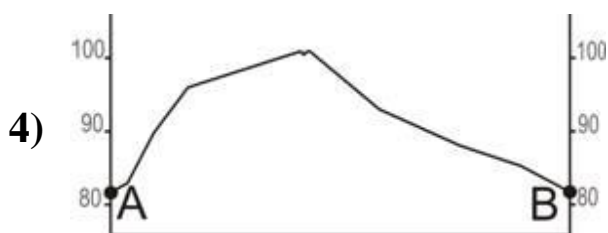
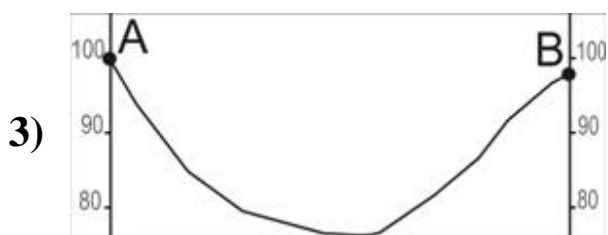
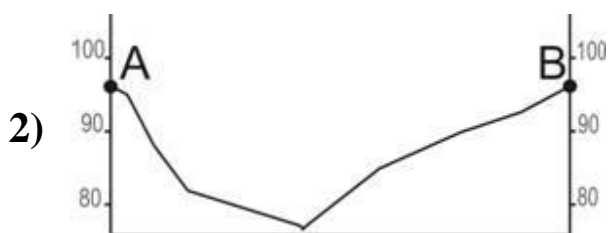

380. Саха (Якутия) Республикасының ресурс базасын өйрөнү өчен Россиянең кайсы географик районы картасын сайларга кирек?

- 1) Европа Көнъягы
- 2) Европа Төньягы
- 3) Көнбатыш Себер
- 4) Ерак Көнчыгыш



382. Карта буенча коедан геодезик билгегә кадәр туры юлдан булган аралыкны ачыклагыз. Үлчәүне шартлы билгеләрнең үзәкләре арасыннан үткәрегез. Нәтижәгезне дистә метрга кадәр түгәрәкләгез. Жавабыгызны сан белән языгыз.

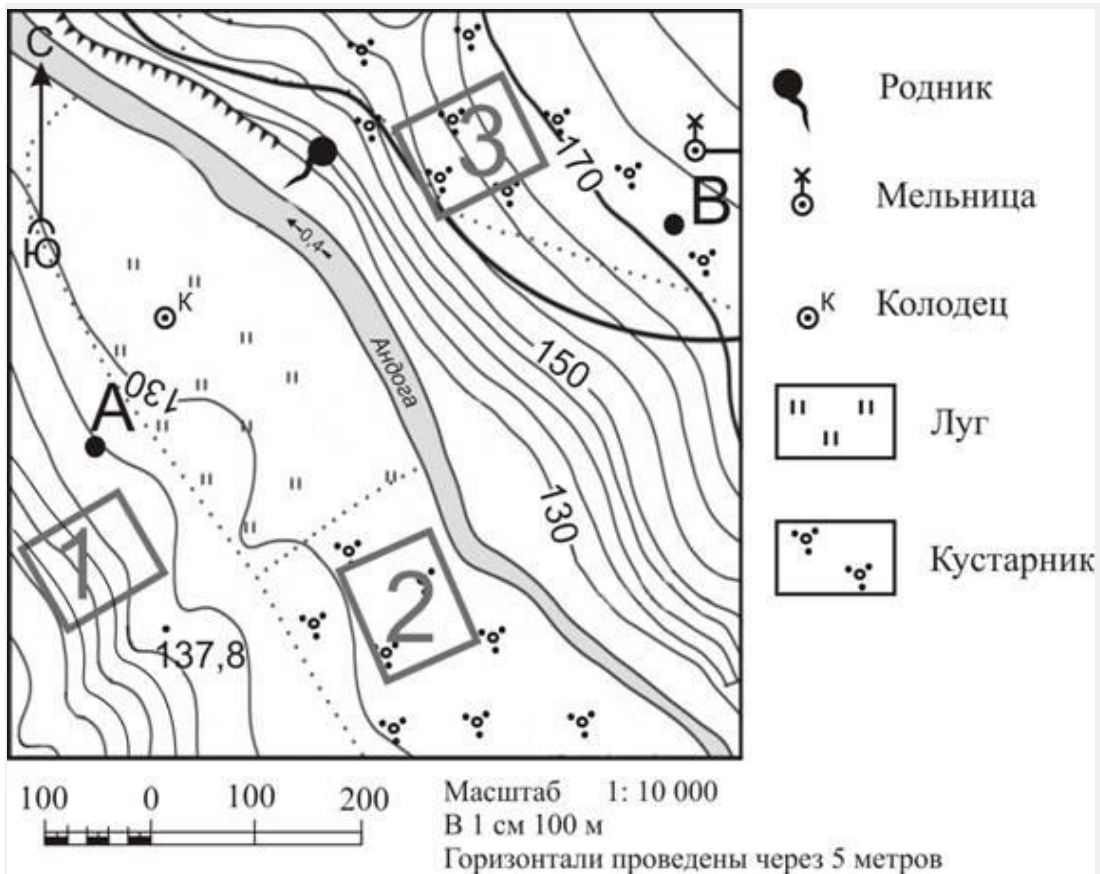
383. Рәсемдә карта нигезендә А-В линияләре буенча төрле укучылар тарафыннан төзелгән урын рельефы профиленең вариантлары бирелгән. Профильләрнең кайсы дәрәс төзелгән?



384. Карта буенча геодезик билгенең башнядан кайсы юнәлештә булуын билгеләгез.

385. Фермер жыләк-жимеш бакчасы үстерү өчен жир эзли. Аңа иртә язда кары эри, жәен кояш туфрагын бик яхшы жылыта торган участок кирәк. Участок шулай ук жыелган уңышны консерв заводына чыгару өчен дә уңайлы булырга тиеш. Картада 1, 2 һәм 3 цифрлар белән бирелгән участокларның кайсы әлеге таләплргә жавап бирә. Жавабыгызны нигезләү өчен ике дәлил китерегез.

Жавабыгызны аерым биткә яки бланкка языгыз, башта биремегезнең номерын күрсәтегез.





Карта буенча чишмәнең тегермәннән кайсы юнәлештә урнашуын билгеләгез.

387. Карта буенча коедан 137,8 биеклекле ноктага кадәрге туры юлдан булган аралыкны ачыклагыз. Үлчәүне шартлы билгеләрнең үзәкләре арасыннан үткәрегез. Нәтижәгезне дистә метрга кадәр түгәрәкләгез. Җавабыгызны сан белән языг 3.

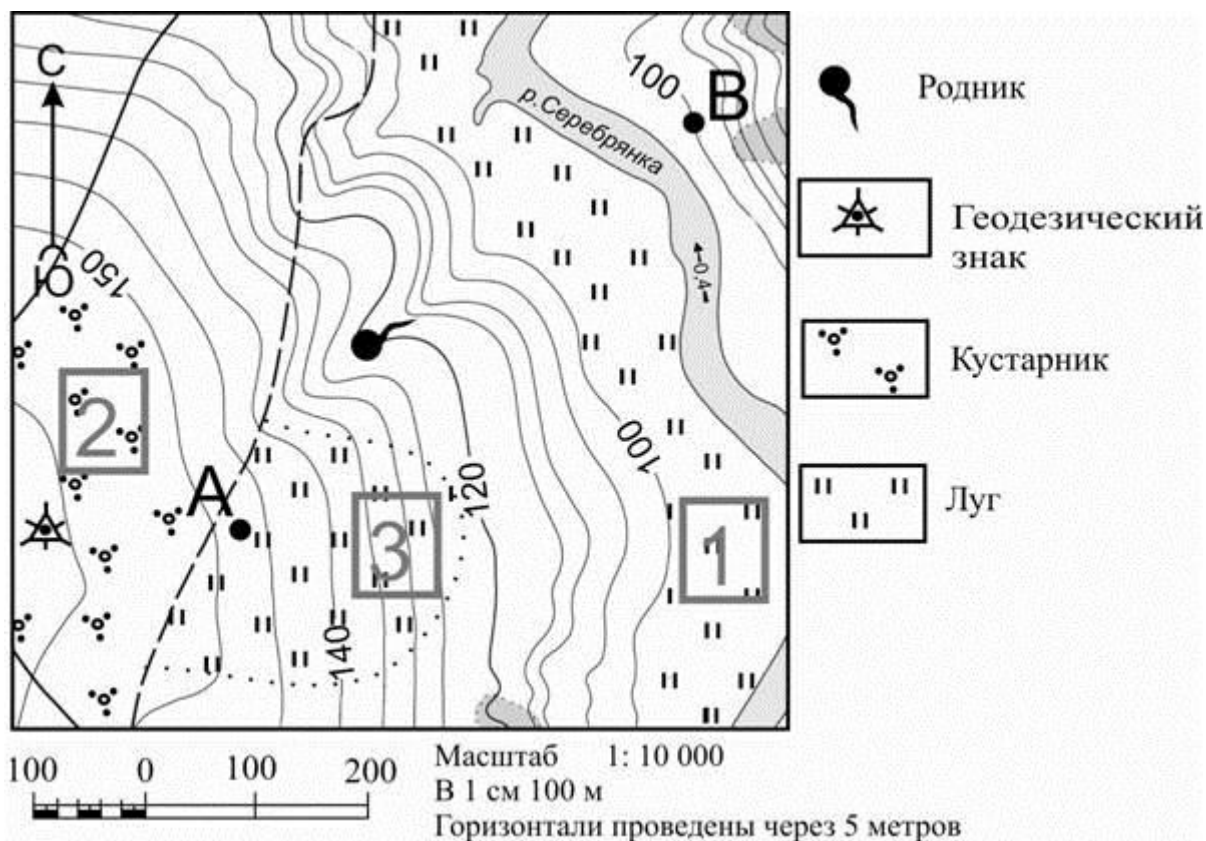
388. Укучылар чанада шуу өчен урын сайлыйлар. Картада 1, 2 һәм 3 цифрлары белән билгеләнгән участокларның кайсы чана шуу өчен кулайрак? Җавабыгызны нигезләү өчен ике дәлил китерегез. Җавабыгызны аерым биткә яки бланкка языгыз, башта биремегезнең номерын күрсәтегез.

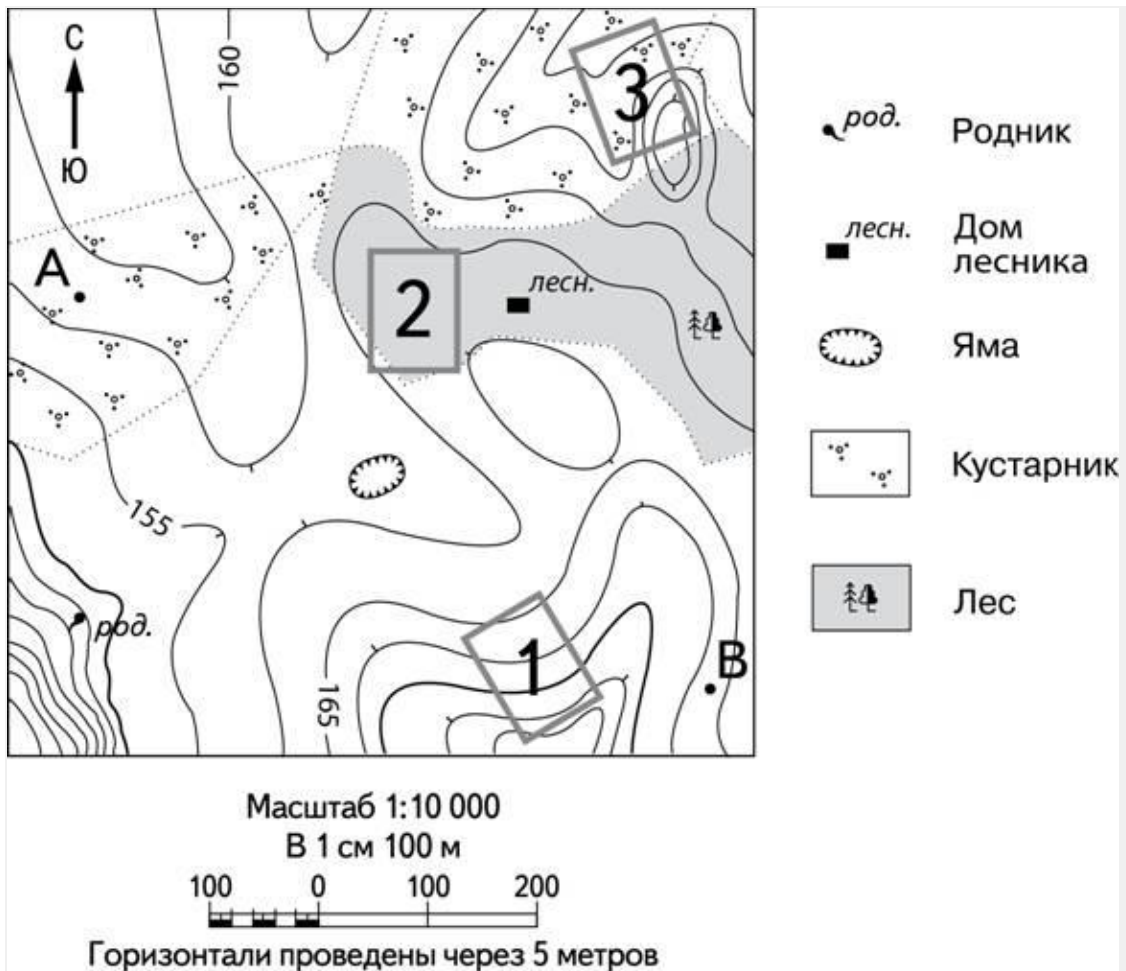
389. Рәсемдә карта нигезендә А-В линияләре буенча төрле укучылар тарафыннан төзелгән урын рельефы профиленең вариантлары бирелгән, Профильләрнең кайсы дәрәс төзелгән?



390. Укучылар чанада шуу өчен урын сайлыйлар. Картада 1, 2 һәм 3 цифрлары белән билгеләнгән участокларның кайсы чана шуу өчен кулайрак? Жавабыгызны нигезләү өчен ике дәлил китерегез.


Жавабыгызны аерым биткә яки бланкка языгыз, башта биремегезнең номерын күрсәтегез.





391. Карта буенча А ноктасыннан урман каравылчысы өенә кадәрге туры юлдан булган аралыкны ачыклагыз. Үлчәүне нокта һәм тәңгәл килгән шартлы билгенең үзәкләре арасыннан үткәреgez. Нәтижәгезне дистә метрга кадәр түгәр кләgez. Жавабыгызны сан белән языгыз.

392. Рәсемдә карта нигезендә А-В линияләре буенча төрле укучылар тарафыннан төзелгән урын рельефы профиленең вариантлары бирелгән. Профильләренең кайсы дөрес төзелгән?

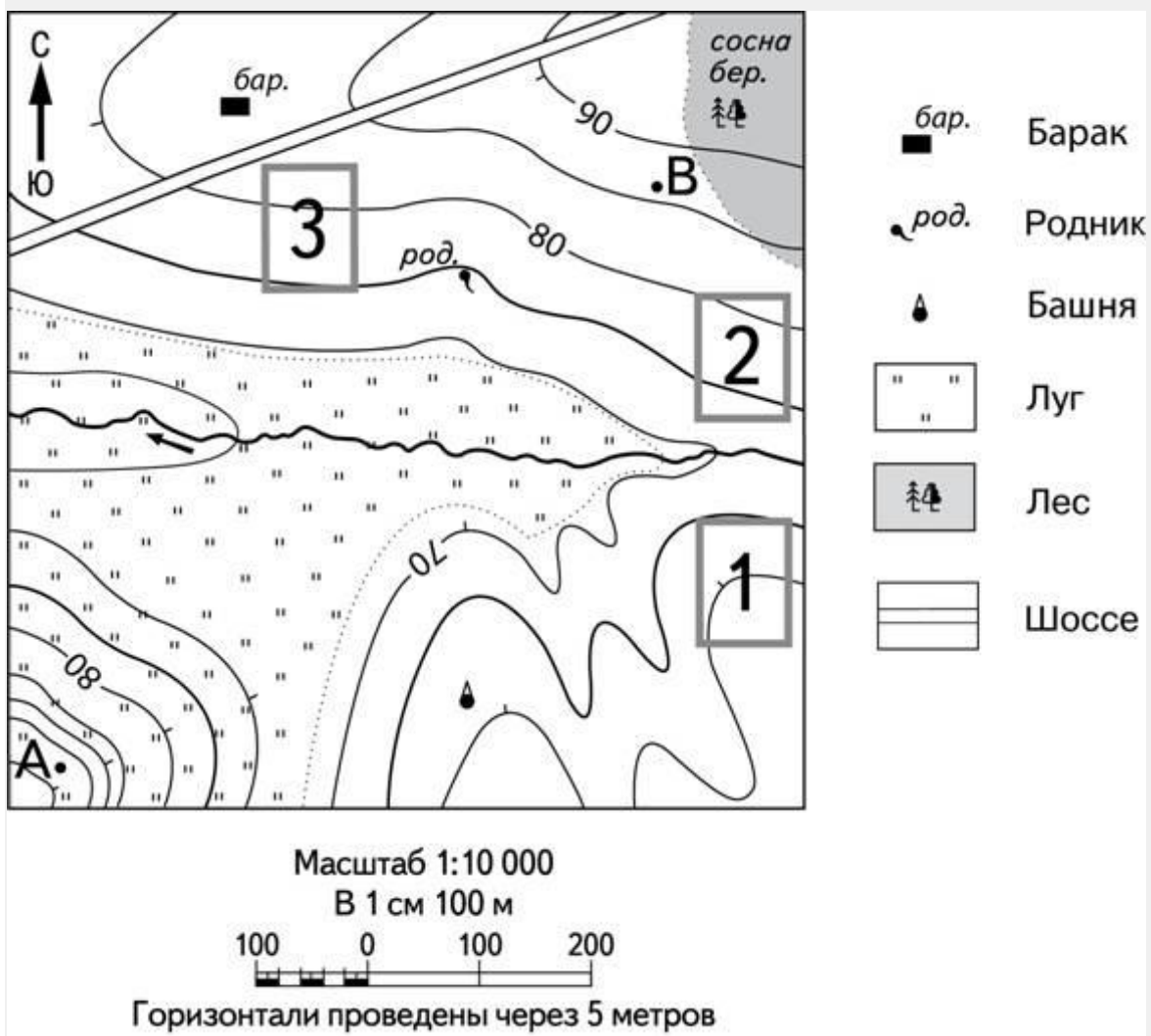


393. Карта буенча урман каравылчысы йортының чишмәдән кайсы якка таба урнашуын билгеләгез.

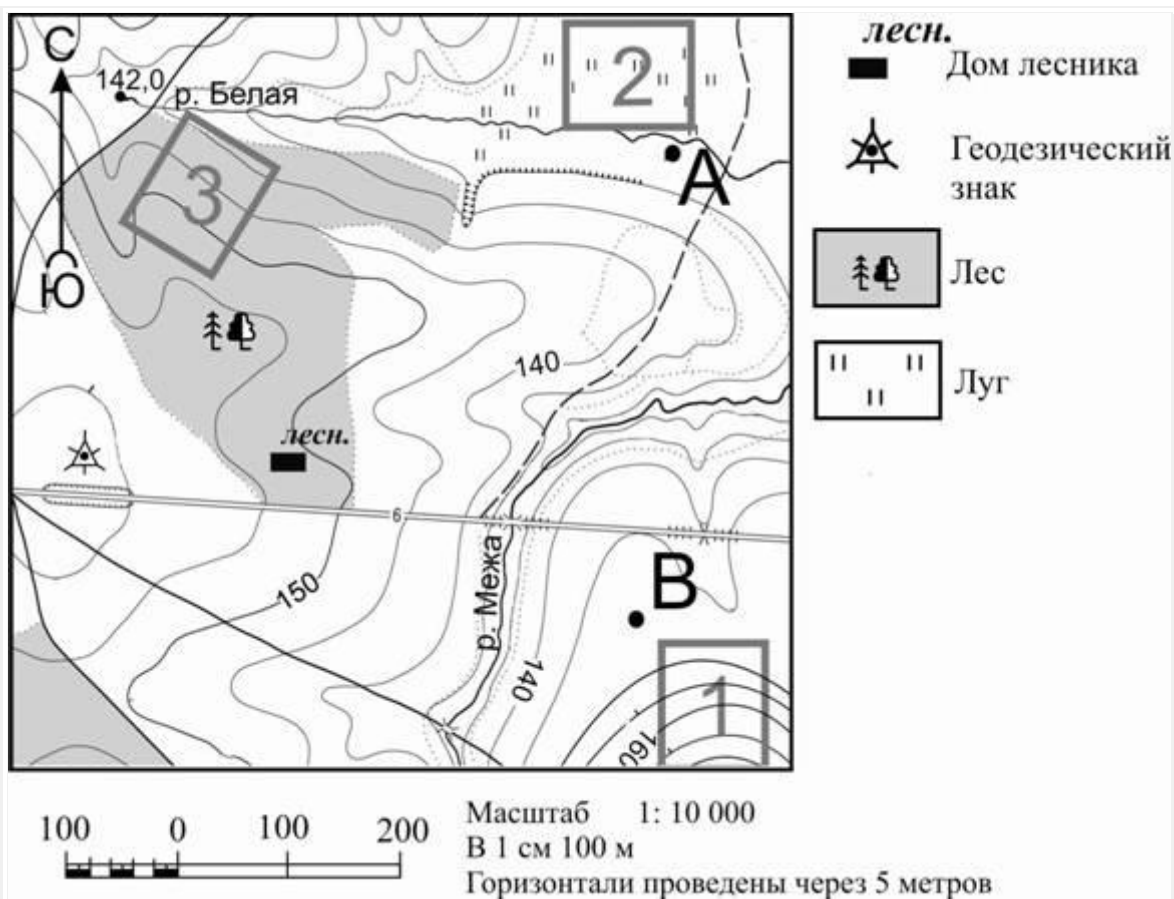
394. Укучылар чанада шуу өчен урын сайлыйлар. Картада 1, 2 һәм 3 цифрлары белән билгеләнгән участокларның кайсы чана шуу өчен кулайрак? Җавабыгызны нигезләү өчен ике дәлил китергез.

Җавабыгызны аерым биткә яки бланкка языгыз, башта биремегезнең номерын күрсәтегез.

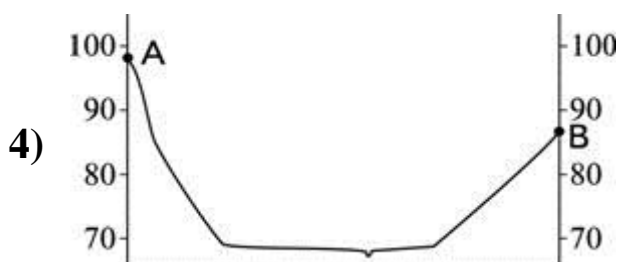
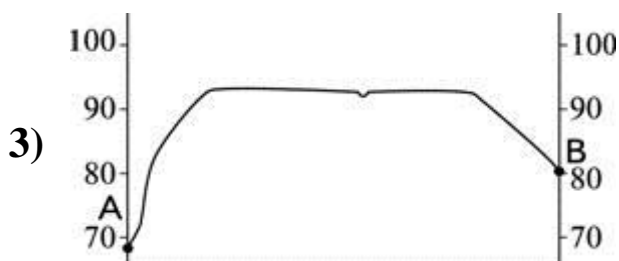

395.



395. Карта буенча урман каравылчысы йортының геодезик билгедән кайсы юнәлештә урнашуын билгеләгез.



396. Рәсемдә карта нигезендә А-В линияләре буенча төрле укучылар тарафыннан төзелгән урын рельефы профиленең вариантлары бирелгән. Профильләренең кайсы дәрәс төзелгән?

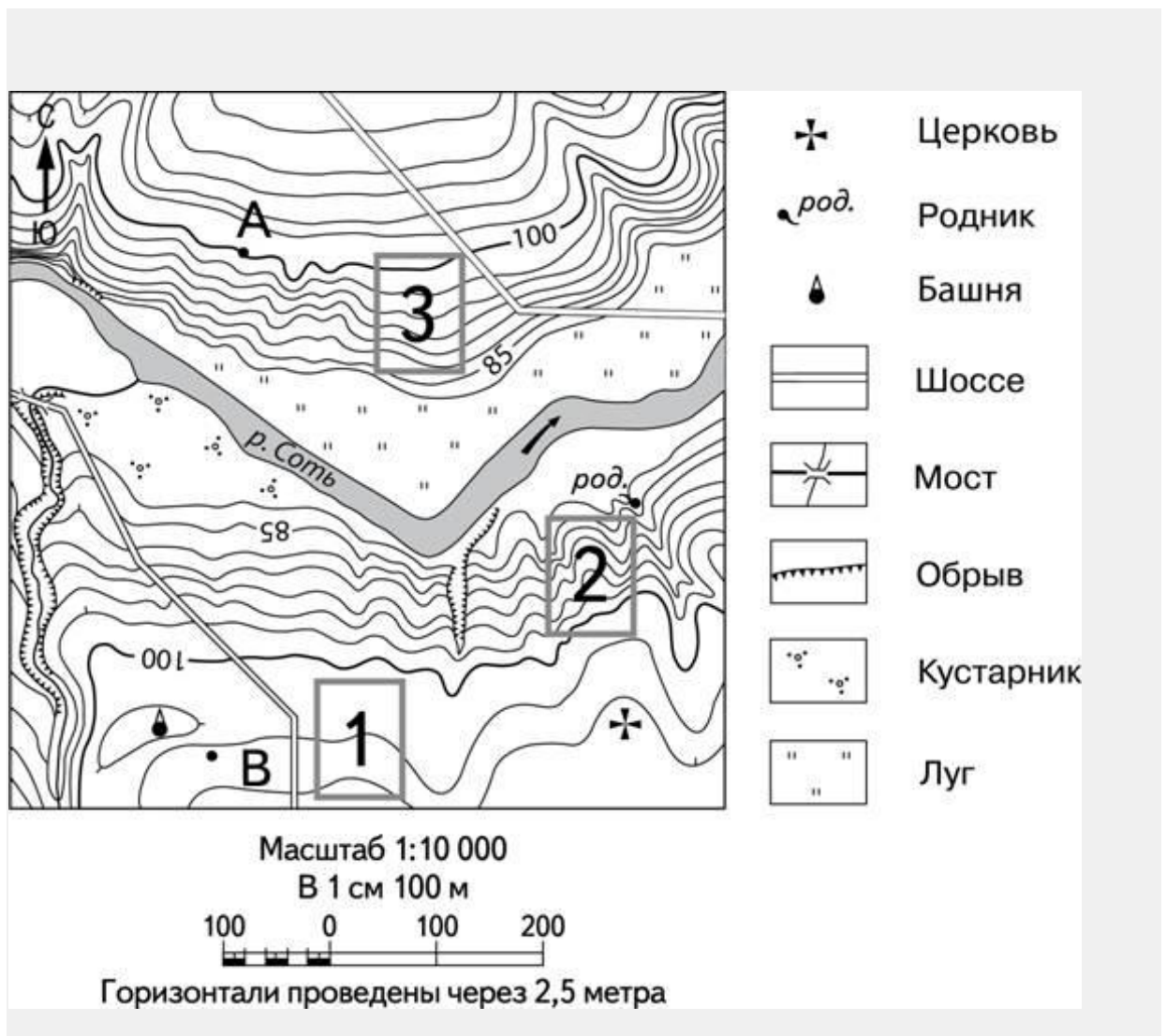


397. Фермер жыләк-жимеш бакчасы үстерү өчен жир эзли. Аңа иртә язда кары эри, жәен кояш туфрагын бик яхшы жылыта торган участок кирәк. Участок шулай ук жыелган уңышны консерв заводына чыгару өчен дә уңайлы булырга тиеш. Картада 1, 2 һәм 3 цифрлар белән бирелгән участокларның кайсы әлеге таләпләргә җавап бирә. Җавабыгызны нигезләү өчен ике дәлил китерегез.

Җавабыгызны аерым биткә яки бланкка языгыз, башта биремегезнең номерын күрсәтегез.

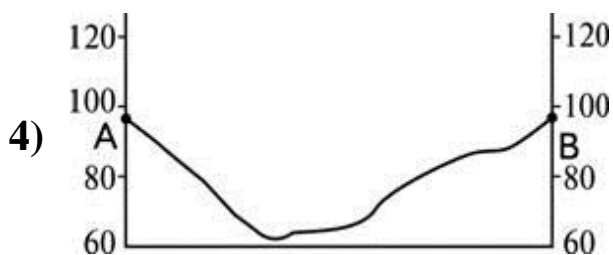
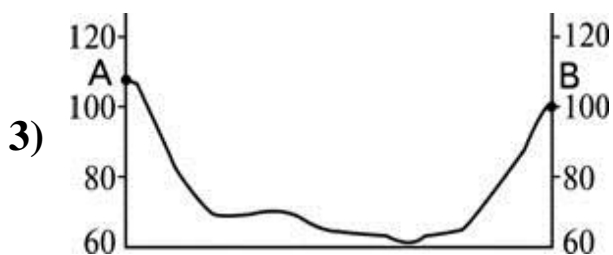
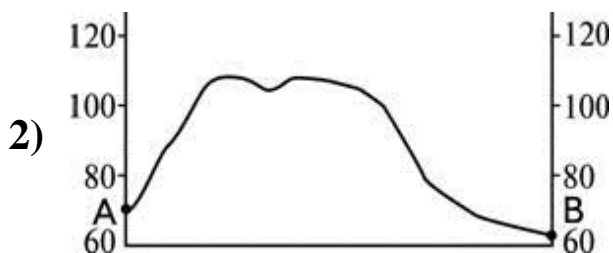

398. Карта буенча чишмәнең башнядан кайсы юнәлештә урнашуын билгеләгез.

399. Карта буенча А ноктасыннан чишмәгә кадәрге туры юлдан булган аралыкны ачыклагыз. Үлчәүне нокта һәм тәңгәл килгән шартлы билгенең үзәкләре арасынан үткәрегез. Нәтижәгезне дистә метрга кадәр түгәрәкләгез. Җавабыгызны сан белән языгыз.



400. Карта буенча чиркәүдән чишмәгә кадәрге туры юлдан булган аралыкны ачыклагыз. Үлчәүне нокта һәм тәңгәл килгән шартлы билгенең үзәкләре арасынан үткәреgez. Нәтижәгезне дистә метрга кадәр түгәрәкләgez. Җавабыгызны сан белән языгыз.

401. Рәсемдә карта нигезендә А-В линияләре буенча төрле укучылар тарафыннан төзелгән урын рельефы профиленең вариантлары бирелгән. Профильләренең кайсы дәрәс төзелгән?

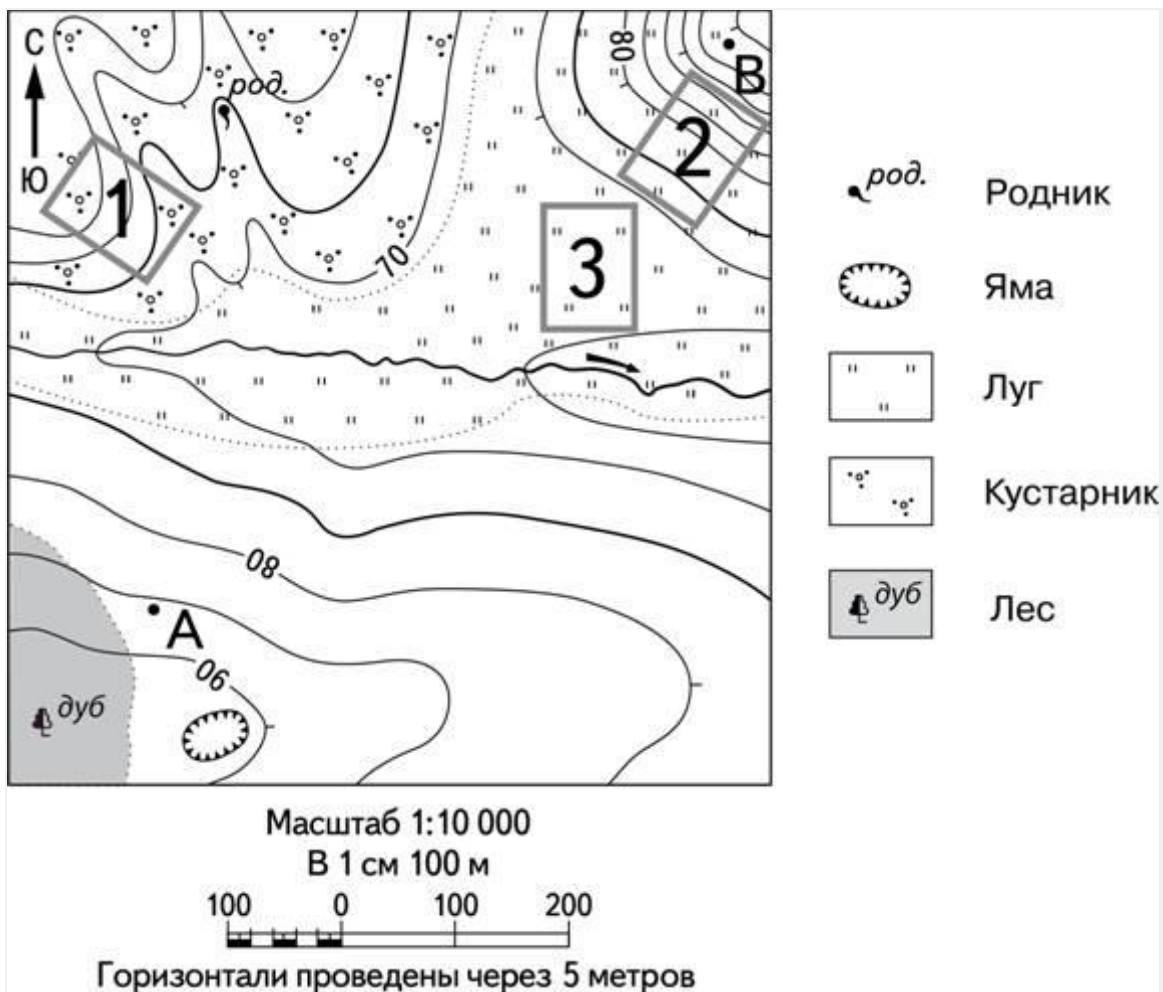


402. Карта буенча чиркәүнең башнядан кайсы юнәлештә урнашуын билгеләгез.

403. Фермер жыләк-жимеш бакчасы үстерү өчен жир эзли. Аңа иртә язда кары эри, жәен кояш туфрагын бик яхшы жылыта торган участок кирәк. Участок шулай ук жыелган уңышны консерв заводына чыгару өчен дә уңайлы булырга тиеш. Картада 1, 2 һәм 3 цифрлар белән бирелгән участокларның кайсы әлеге таләплргә жавап бирә. Жавабыгызны нигезләү өчен ике дәлил китерегез.

Жавабыгызны аерым биткә яки бланкка языгыз, башта биремегезнең номерын күрсәтегез.

404.



Укучылар чанада шуу өчен урын сайлыйлар. Картада 1, 2 һәм 3 цифрлары белән билгеләнгән участокларның кайсы чана шуу өчен кулайрак? Жавабыгызны нигезләү өчен ике дәлил китерегез.




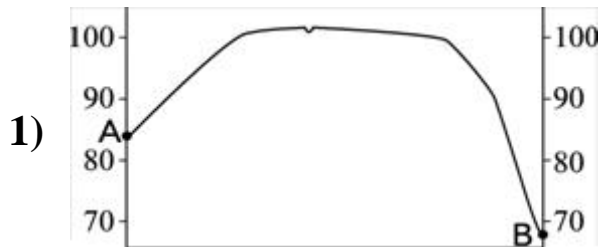
Жавабыгызны аерым биткә яки бланкка языгыз, башта биремегезнең номерын күрсәтегез.

405. Карта буенча чишмәнең чокырдан кайсы юнәлештә урнашуын билгеләгез.

406. Карта буенча А ноктасыннан чишмәгә кадәрге туры юлдан булган аралыкны ачыклагыз. Үлчәүне нокта һәм тәңгәл килгән шартлы билгенең үзәкләре арасыннан үткәрегез. Нәтижәгезне

дистә метрга кадәр түгәрәкләгез. Жавабыгызны сан белән языгыз.

407. Рәсемдә карта нигезендә А-В линияләре буенча төрле укучылар тарафыннан төзелгән урын рельефы профиленең вариантлары бирелгән. Профильләрнең кайсы дәрәс төзелгән?



408. Мексика култыгында 2010 нчы елның азында нефть

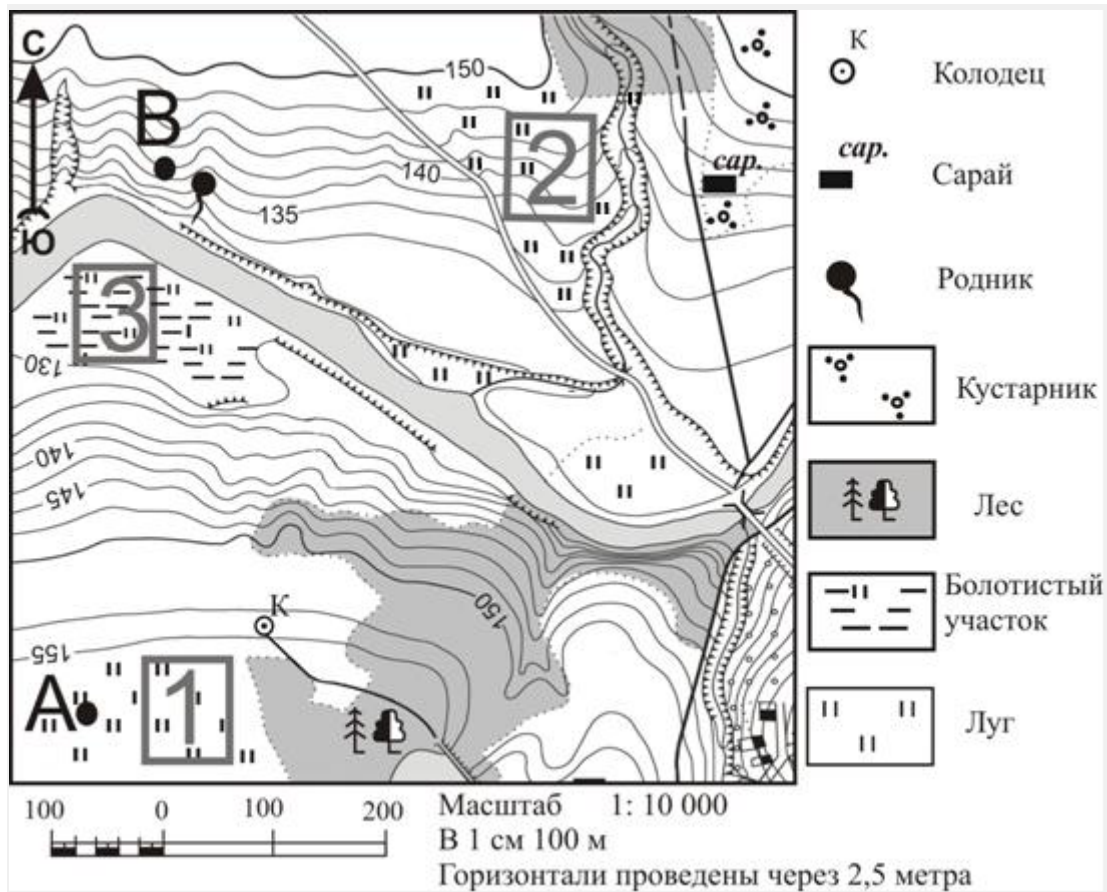
платформасында авария булу сәбәпле нефтьнең масштаблы түгелүе була. Шуннан соң АКШ хөкүмәте ачык диңгездә нефть скважиналары бораулауга рөхсәт бирүгә саграк карый башлый. Мисал өчен, нефть һәм газ чыгару белән шөгылләнә торган Shell Oil компаниясенә Арктикада скважиналар борауларга рөхсәт итмиләр.

Бофорт диңгезе АКШ тан кала кайсы ил территориясен юа?

- 1) Швеция
- 2) Россия
- 3) Канада
- 4) Норвегия

409. Бофорт диңгезендәге нефть платформасында авария булса, аның нәтижәләрен бетерү Мексика култыгындагыга караганда авыррак булчак. Ни өчен икәнлеген аңлатыгыз. Ике сәбәбен күрсәтегез.

Жавабыгызны аерым биткә яки бланкка языгыз, башта биремегезнең номерын күрсәтегез.






410. Футбол секциясенә йөрүчеләр уйнау өчен урын сайлыйлар. Картада 1, 2 һәм 3 цифрлары белән билгеләнгән участокларның кайсы футбол уйнау өчен кулайрак? Жавабыгызны нигезләү өчен ике дәлил китерегез.

Жавабыгызны аерым биткә яки бланкка языгыз, башта биремегезнең номерын күрсәтегез.

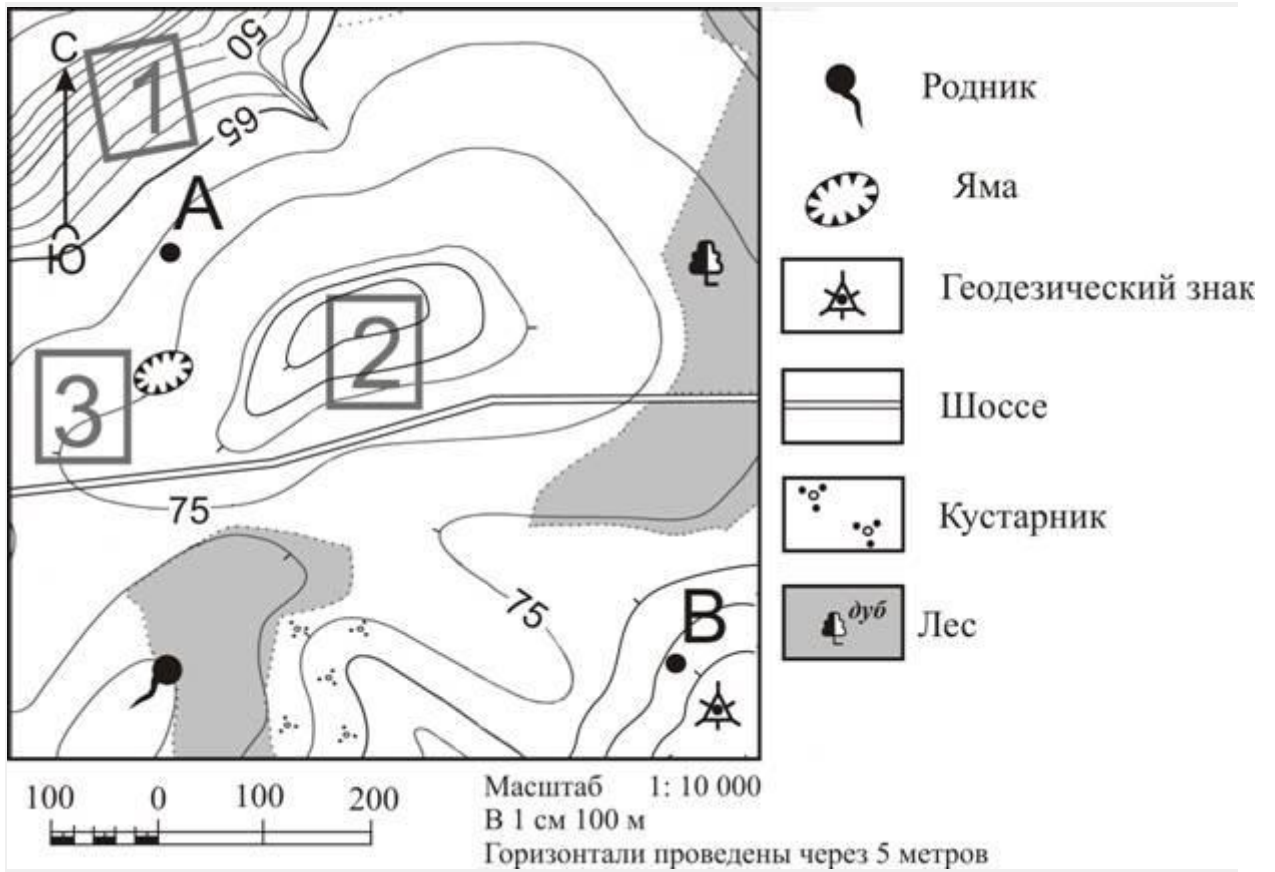
411. Карта буенча коедан чишмәгә кадәрге туры юлдан булган аралыкны ачыклагыз. Үлчәүне нокта һәм тәңгәл килгән шартлы билгенең үзәкләре арасынан үткәрегез. Нәтижәгезне дистә метрга кадәр түгәрәкләгез. Жавабыгызны сан белән языгыз.

412. Рәсемдә карта нигезендә А-В линияләре буенча төрле

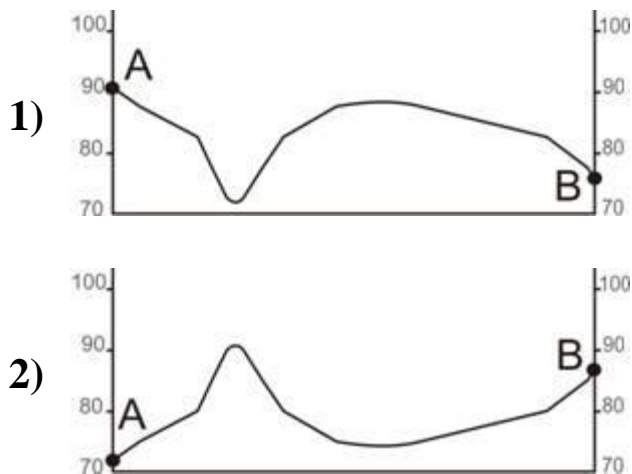
укучылар тарафыннан төзелгән урын рельефы профиленең вариантлары бирелгән. Профильләрнең кайсы дәрәс төзелгән.


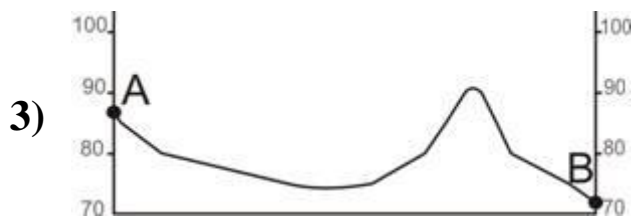


413. Карта буенча чишмәнең сарайдан кайсы якта урнашуын билгеләгез.



414. Рәсемдә карта нигезендә А-В линияләре буенча төрле укучылар тарафыннан төзелгән урын рельефы профиленең вариантлары бирелгән. Профильләрнең кайсы дәрәс төзелгән?



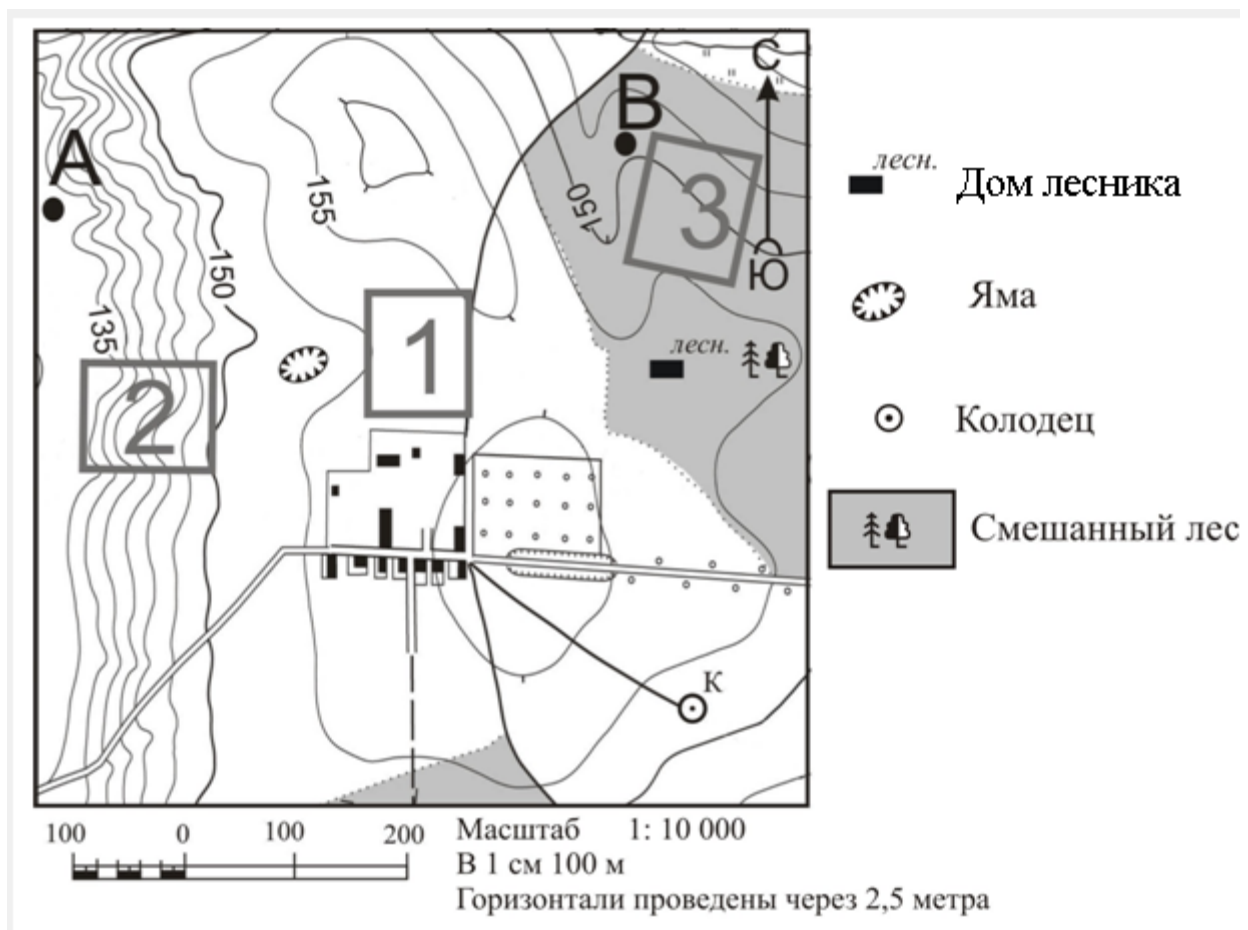


415. Карта буенча геодезик билгедән чишмәгә кадәрге туры юлдан булган аралыкны ачыклагыз. Үлчәүне нокта һәм тәңгәл килгән шартлы билгенең үзәкләре арасынан үткәреgez. Нәтижәгезне дистә метрга кадәр түгәрәкләgez. Җавабыгызны сан белән языгыз.

416. Карта буенча чишмәнең сарайдан кайсы якта урнашуын билгеләgez.

417. Фермер жыләк-жимеш бакчасы үстерү өчен жир эзли. Аңа иртә язда кары эри, жәен кояш туфрагын бик яхшы жылыта торган участок кирәк. Участок шулай ук жыелган уңышны консерв заводына чыгару өчен дә уңайлы булырга тиеш. Картада 1, 2 һәм 3 цифрлар белән бирелгән участокларның кайсы әлеге таләплргә җавап бирә. Җавабыгызны нигезләү өчен ике дәлил китерегез.

Җавабыгызны аерым биткә яки бланкка языгыз, башта биремегезнең номерын күрсәтеgez.




419. Карта буенча геодезик билгедән урман каравылчысы йортына кадәрге туры юлдан булган аралыкны ачыклагыз. Үлчәүне нокта һәм тәңгәл килгән шартлы билгенең үзәкләре арасынан үткәрегез. Нәтижәгезне дистә метрга кадәр түгәрәкләгез. Җавабыгызны сан белән языгыз.

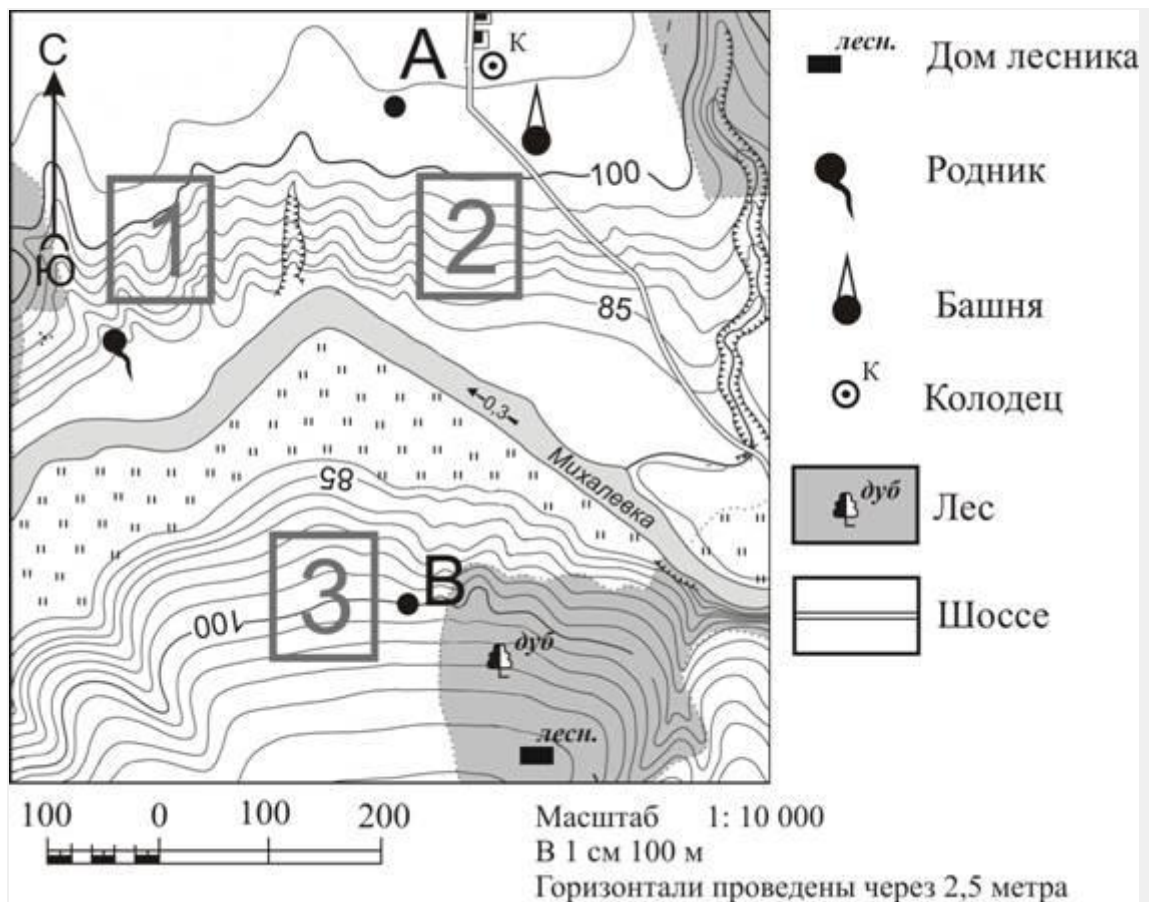
420. Укучылар чанада шуу өчен урын сайлыйлар. Картада 1, 2 һәм 3 цифрлары белән билгеләнгән участокларның кайсы чана шуу өчен кулайрак? Җавабыгызны нигезләү өчен ике дәлил китергез. Җавабыгызны аерым биткә яки бланкка языгыз, башта биремегезнең номерын күрсәтегез.

421. Карта буенча чокырның каравылчы өеннән кайсы юнәлештә булуын билгеләгез.

422. Рәсемдә карта нигезендә А-В линияләре буенча төрле укучылар тарафыннан төзелгән урын рельефы профиленең вариантлары бирелгән. Профильләренең кайсы дөрес төзелгән?



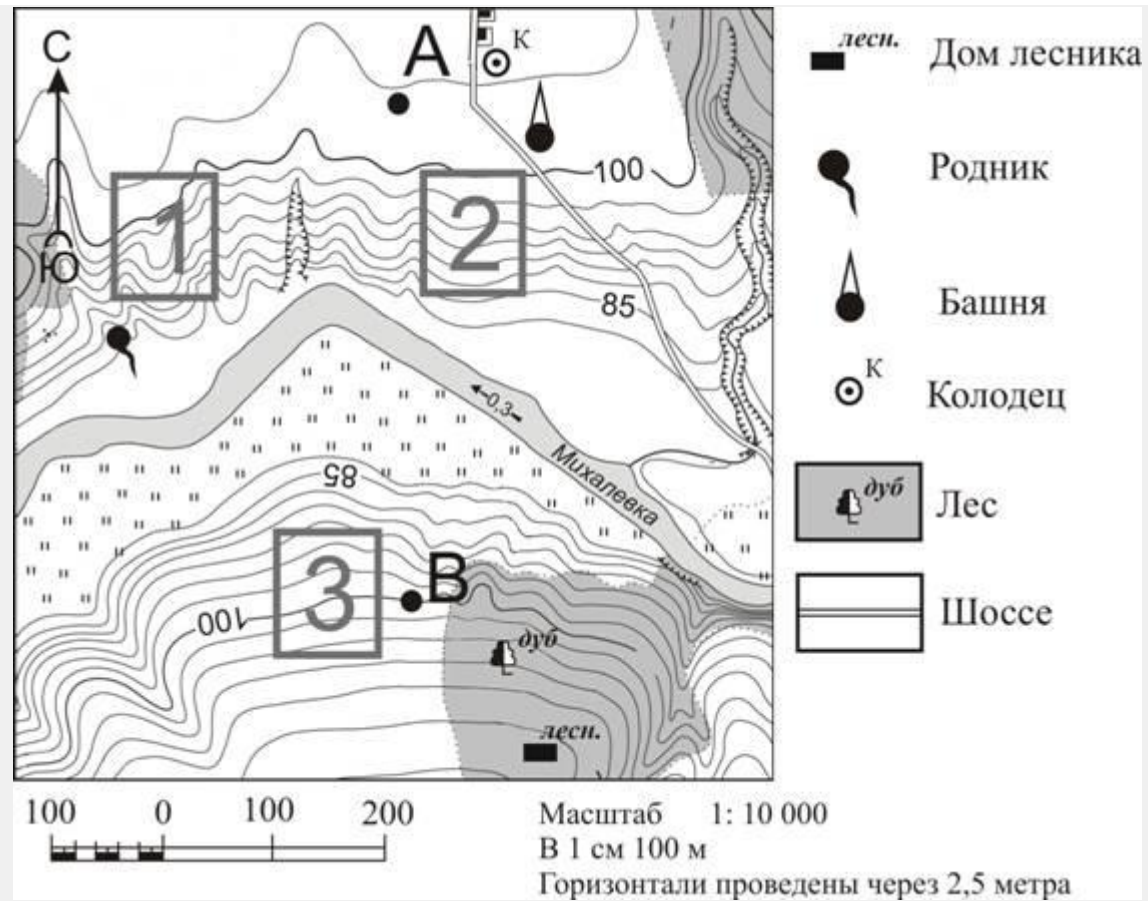
423.



Карта буенча башняның урман каравылчысы йортынан кайсы юнәлештә урнашуын билгеләгез.

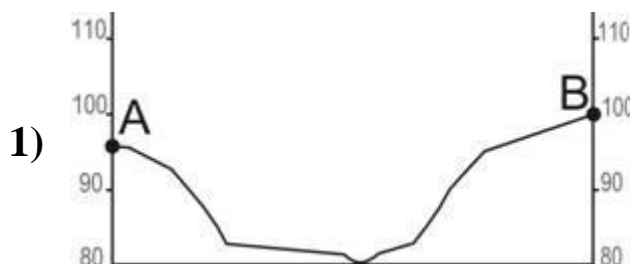
424. Фермер жыләк-жимеш бакчасы үстерү өчен жир эзли. Аңа иртә язда кары эри, жәен кояш туфрагын бик яхшы жылыта торган участок кирәк. Участок шулай ук жыелган уңышны консерв заводына чыгару өчен дә уңайлы булырга тиеш. Картада 1, 2 һәм 3 цифрлар белән бирелгән участокларның кайсы әлеге таләпләргә җавап бирә? Җавабыгызны нигезләү өчен ике дәлил китерегез.



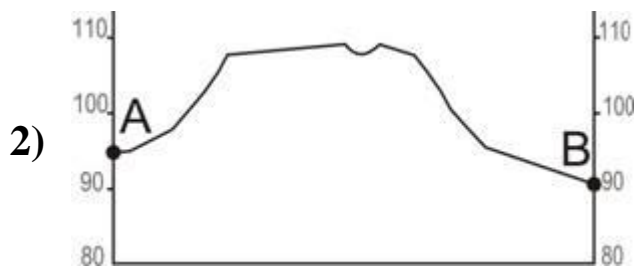
Җавабыгызны аерым биткә яки бланкка языгыз, башта биремегезнең номерын күрсәтегез.



425. Карта буенча коедан чишмәгә кадәрге туры юлдан булган аралыкны ачыклагыз. Үлчәүне шартлы билгенең үзәкләре арасынан үткәрегез. Нәтижәгезне дистә метрга кадәр түгәрәкләгез. Җавабыгызны сан белән языгыз.

426. Рәсемдә карта нигезендә А-В линияләре буенча төрле укучылар тарафыннан төзелгән урын рельефы профиленең вариантлары бирелгән. Профильләрнең кайсы дәрәс төзелгән?





427. Россиядәге «Свеза» фанера холдингы һәм UPM-Kymmene фин целлюлоза-кәгазь корпорациясе UPM-Kymmene 2007 нче елда Череповец һәм Вологда шәһәрләре арасында урнашкан Шексна шәһәрендә урман промышленносте комплексы төзү турында килешү төзиләр. Комплекс составына – целлюлоза комбинаты, такта яру предприятиесе һәм төзелеш материаллары - OSB плиталар (ДСПның аналогы) житештерү заводлары керә. UPM-Kymmene компаниясен озын жепселле ылыслы целлюлоза кызыксындыра, аннан Финляндиядә югары сыйфатлы кәгазь,

картон житештерергә телиләр. Шунысы үзенчәлекле, алар житештергән картон-кәгазь продукциясенә күпчелек өлөшөн Россиягә жибәреләчәк.

Вологод өлкәсе табигать-ресурс базасының, су ресурсларын исәпкә алмаганда, кайсы үзенчәлеге һәм Шексна шәһәре ЭГП сының кайсы үзенчәлеге бу шәһәрне эре урман промышленносте комплексы төзү буенча Россия-Финляндия проектын тормышка ашыру өчен сайлауга этәргеч булган?

Жавабыгызны аерым биткә яки бланкка языгыз, башта биремегезнең номерын күрсәтегез.

428. Вологода өлкәсе территориясен җентеклерәк өйрәнү өчен кайсы географик районның картасын сайларга кирәк?

- 1) Европа Төньягы
- 2) Үзәк Россия
- 3) Урал
- 4) Идел буе

429. ОАО «Сокольский ЦБК» – Россия целлюлоза-кәгазь промышленносте предприятияләре арасында иң карты. Комбинат Вологод өлкәсендә Сухона елгасы яр буена урнашкан. Узган

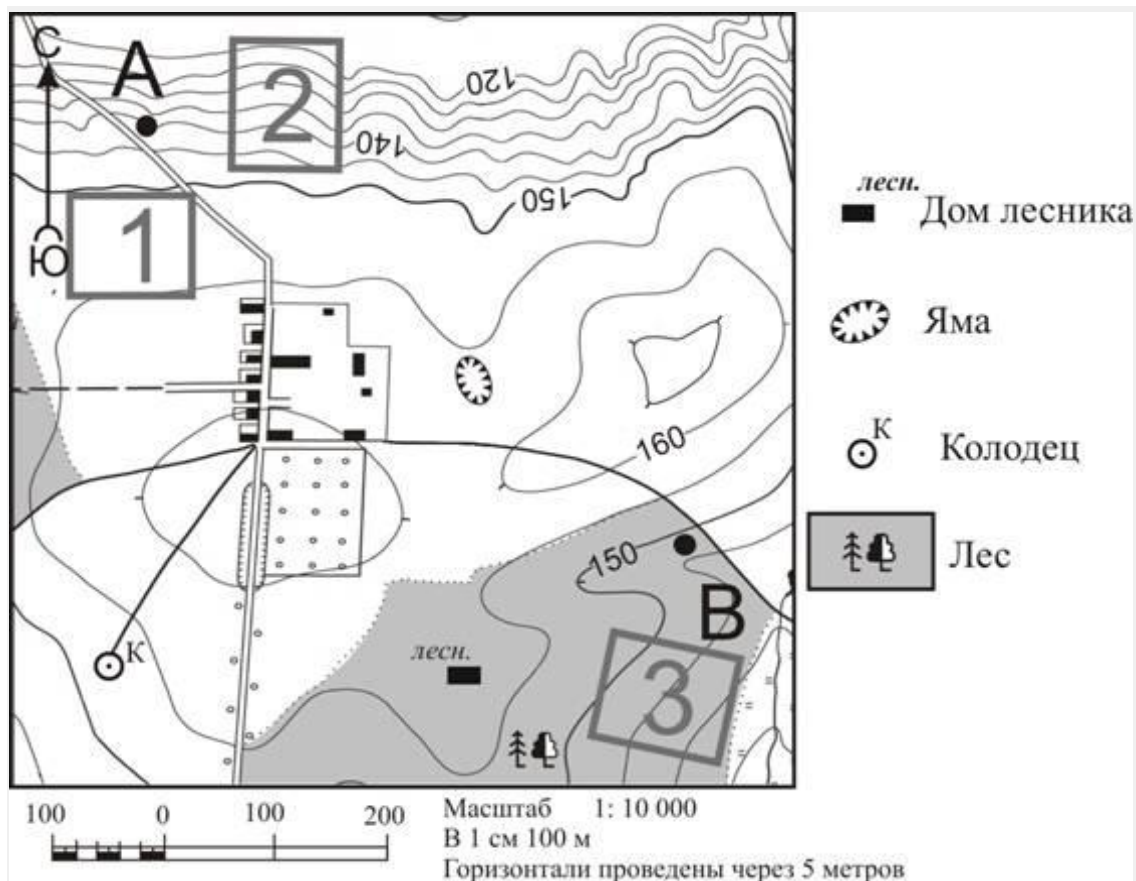
гасырның азагында ОАО «Сокольский ЦБК» да реконструкция үткәрелә. Шулай ук целлюлозаны хлорсыз агарту буенча экологик чиста проект тормышка ашырыла. Хәзерге вакытта комбинатта югары сыйфатлы 25 төр кәгазь, сульфитлы агартылмаган целлюлоза һәм башкалар чыгарыла. Комбинат балансында сәгатенә 500 т пар һәм 30 МВт электр энергиясе эшләп чыгара торган ике жылылык электростанциясе бар.

Вологод өлкәсе табигать-ресурс базасының кайсы үзенчәлекләре ОАО «Сокольский ЦБК» барлыкка китерүгә йогынты ясый? Ике үзенчәлеген күрсәтегез.

Жавабыгызны аерым биткә яки бланкка языгыз, башта биремегезнең номерын күрсәтегез.

430. Вологод өлкәсе территориясен жентекле өйрәнү өчен Россиянең кайсы географик картасын сайларга кирәк?

- 1) Үзәк Россия
 - 2) Европа Төньягы
 - 3) Урал
 - 4) Идел буе
-
-

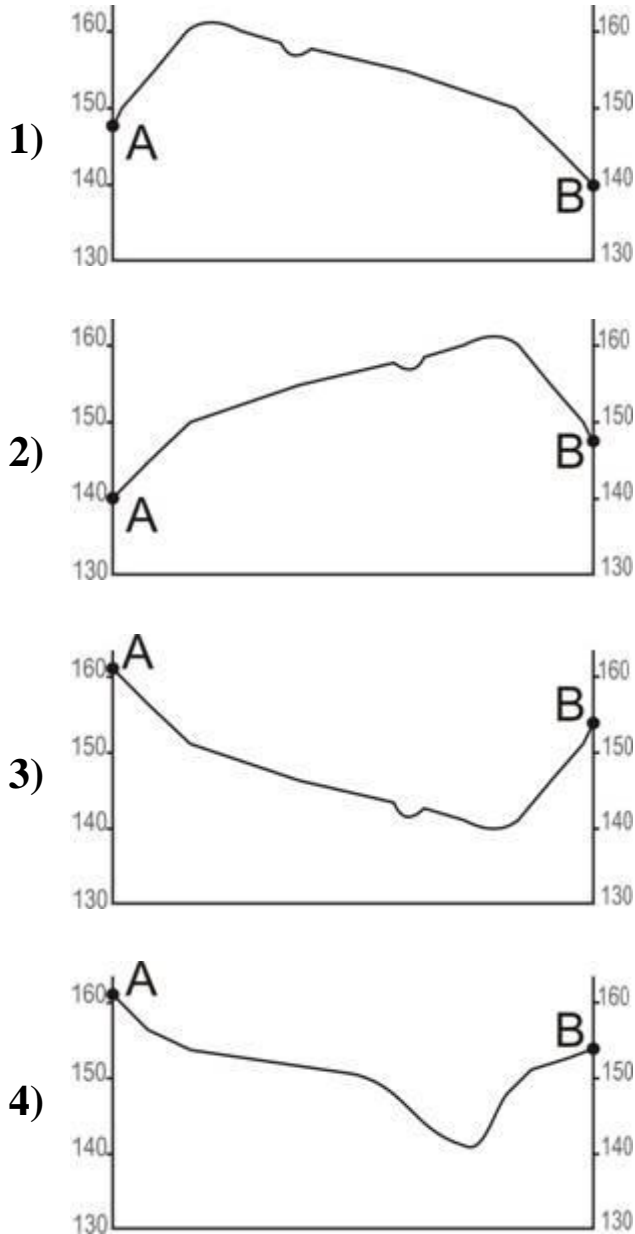


431. Карта буенча коедан урман каравылчысының өенә кадәрге туры юлдан булган аралыкны ачыклагыз. Үлчәүне шартлы билгеләрнең үзәкләре арасынан үткәрегез. Нәтижәгезне дистә метрга кадәр түгәрәкләгез. Җавабыгызны сан белән языгыз.

432. Карта буенча урман каравылчысы йортының чокырдан кайсы юнәлештә урнашуын билгеләгез.

433. Укучылар чанада шуу өчен урын сайлыйлар. Картада 1, 2 һәм 3 цифрлары белән билгеләнгән участокларның кайсы чана шуу өчен кулайрак? Җавабыгызны нигезләү өчен ике дәлил китерегез. Җавабыгызны аерым биткә яки бланкка языгыз, башта биремегезнең номерын күрсәтегез.

434. Рәсемдә карта нигезендә А-В линияләре буенча төрле укучылар тарафыннан төзелгән урын рельефы профиленең вариантлары бирелгән. Профильләрнең кайсы дәрәс төзелгән?



435. Кислогуб ПЭСы Россиянең Мурманск өлкәсендә

урнашкан, 10 ел дәвамында эшләми торганнан соң кабат эксплуатациягә тапшырылган, су күтәрелешенә нигезлэнгән бердәнбер эксперименталь электростанция. Су күтәрелеше энергетикасы экологик планда иң чисталардан санала. Хәзерге вакытта Архангельск өлкәсендәге 12 млн квт егәрлекле Мезень ПЭСы, Охота диңгезендәге 8 млн квт. егәрлекле Тугурск ПЭСларын төзү проектлары әзер.

Кислогуб ПЭСы урнашкан регионны жентекле өйрәнү өчен Россиянең кайсы географик районы картасын сайларга кирәк?

- 1) Европа Төньягы
- 2) Ерак Көнчыгыш
- 3) Көнбатыш Себер
- 4) Көнчыгыш Себер

436. ПЭСның нинди экологик өстенлекләре бар? ПЭСның ТЭС белән һәм ГЭС белән чагыштырганда булган берәр экологик өстенлеген күрсәтегез.

Жавабыгызны аерым биткә яки бланкка языгыз, башта биремегезнең номерын күрсәтегез.

437. 2010 нчы елның 20 нче апрелендә Америкада Луизиана штаты яр буйларыннан 80 километр ераклыкта нефть платформасында шартлау була, 22 нче апрельдә платформа бата. Нәтижәдә, нефть скважинасы зарарлана һәм нефть океанга агып чыга башлый. Нефтьне Мексика култыгына керүдән туктатып калып булмый, һәм түгелгән нефтьнең бер өлеше Миссисипи тамагына кадәр барып җитә.



Нефтьнең агып чыгуы кайсы култыкта булган?

- 1) Мексика
- 2) Калифорния
- 3) Аляска
- 4) Гудзон


438. Нефть түгелүдән зыян күрүче Мексика култыгында яшәүче кешеләрнең ике төрле хужалык эшчәнлеген атагыз.

Җавабыгызны аерым биткә яки бланкка языгыз, башта биремегезнең номерын күрсәтегез.

439. Рәсемдә карта нигезендә А-В линияләре буенча төрле укучылар тарафыннан төзелгән урын рельефы профиленең вариантлары бирелгән. Профильләрнең кайсы дәрәҗәс төзелгән?



4)




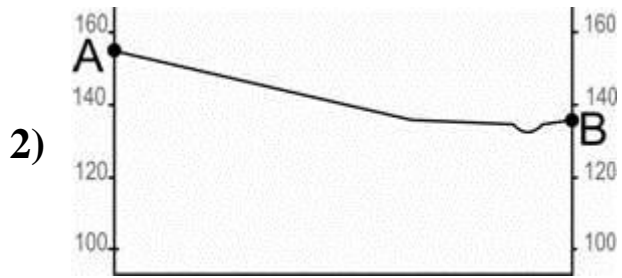
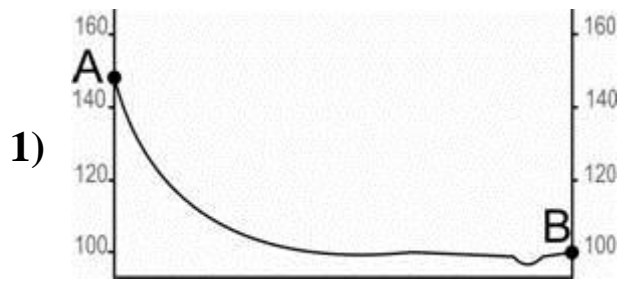
440. Карта буенча геодезик билгенең А ноктасыннан кайсы юнәләштә урнашуын билгеләгез.

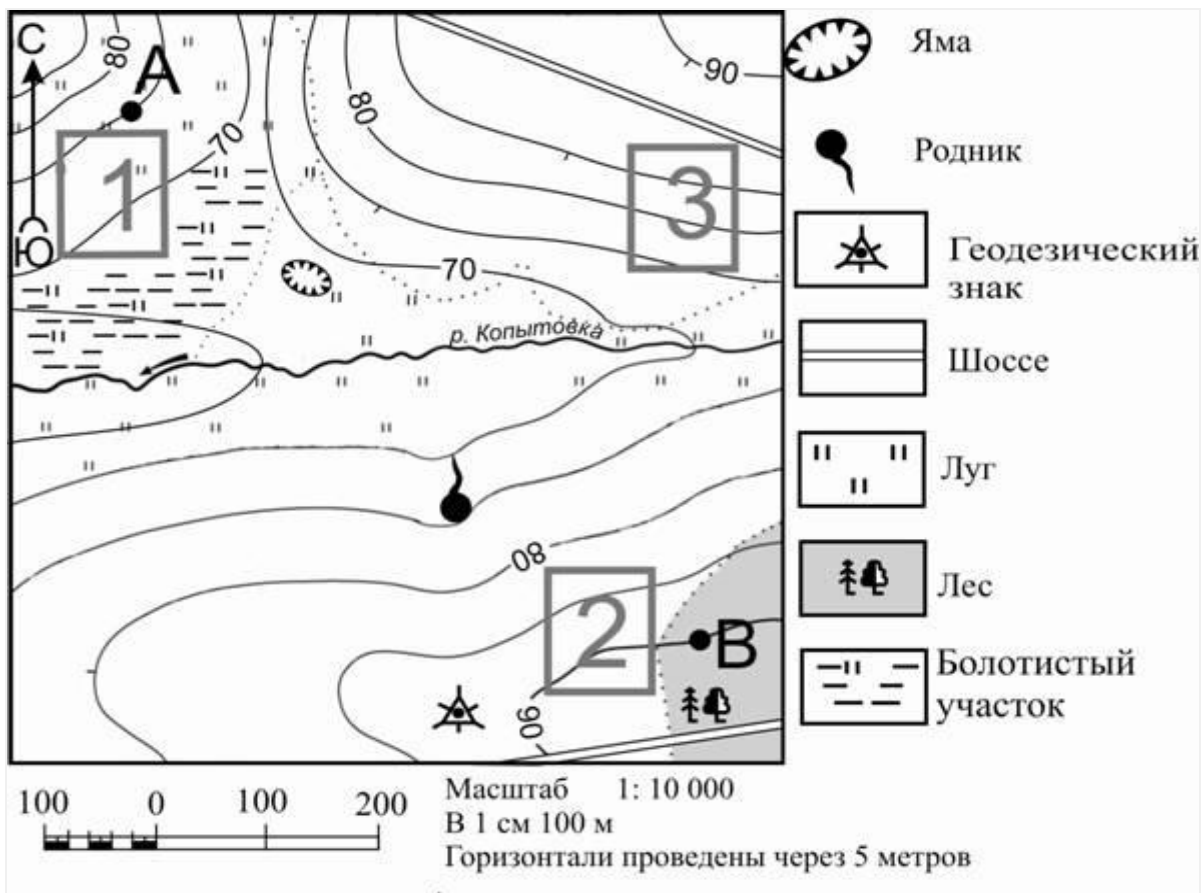
441. Мәктәпнең футбол секциясенә йөрүчеләр футбол кыры ясау өчен урын сайлыйлар. Картада 1, 2, һәм 3 цифрлары белән бирелгән участокларның кайсы футбол кыры ясау өчен уңайлы? Жавабыгызны раслау өчен ике дәлил китерегез.

Жавабыгызны аерым биткә яки бланкка языгыз, башта биремегезнең номерын күрсәтегез.

442. Карта буенча А ноктасыннан чишмәгә кадәрге туры юлдан булган аралыкны ачыклагыз. Үлчәүне шартлы билгеләрнең үзәкләре арасыннан үткәрегез. Нәтижәгезне дистә метрга кадәр түгәрәкләгез. Жавабыгызны сан белән языгыз.

443. Рәсемдә карта нигезендә А-В линияләре буенча төрле укучылар тарафыннан төзелгән урын рельефы профиленең вариантлары бирелгән. Профильләрнең кайсы дәрәс төзелгән?

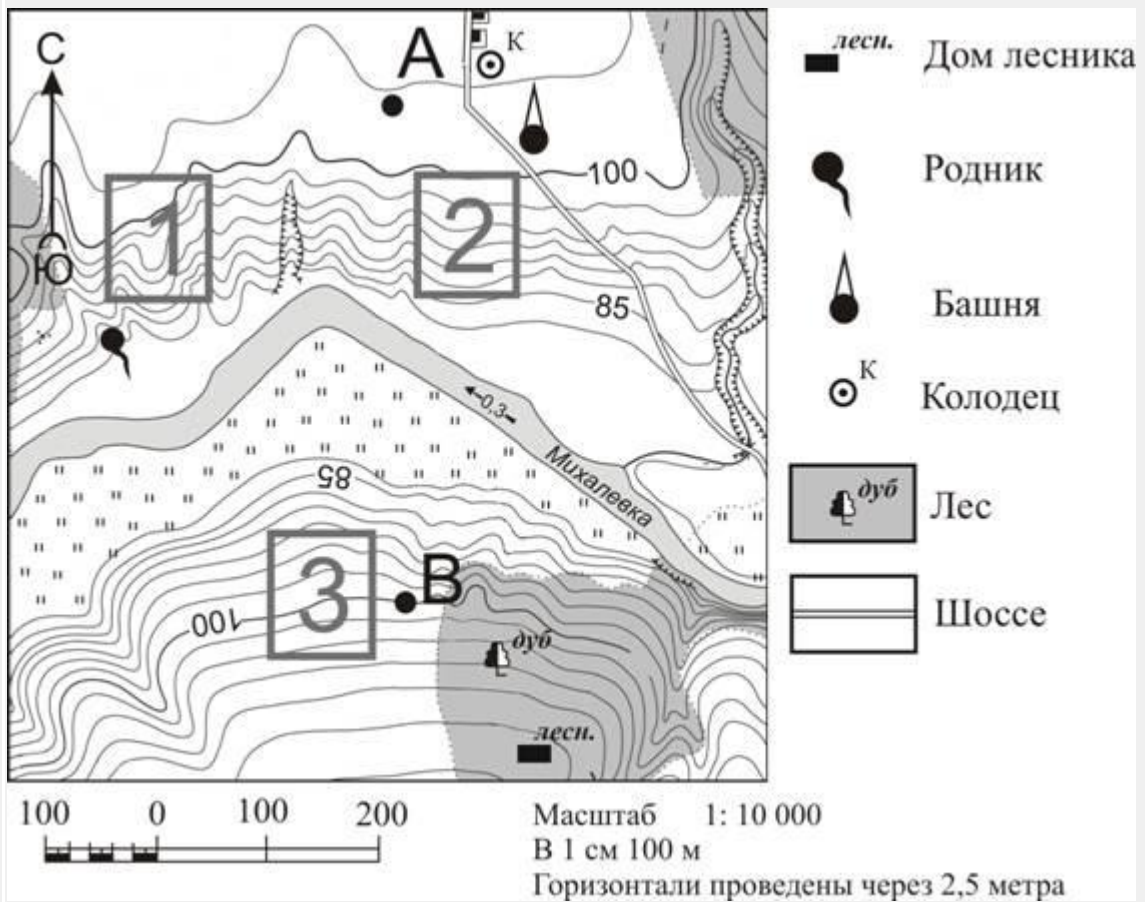




Фермер жиләк-жимеш бакчасы үстерү өчен җир эзли. Аңа иртә язда кары эри, жәен кояш туфрагын бик яхшы жылыта торган участок кирәк. Участок шулай ук жыелган уңышны консерв заводына чыгару өчен дә уңайлы булырга тиеш. Картада 1, 2 һәм 3 цифрлар белән бирелгән участокларның кайсы әлеге таләпләргә җавап бирә. Җавабыгызны нигезләү өчен ике дәлил китерегез.


Җавабыгызны аерым биткә яки бланкка языгыз, башта биремегезнең номерын күрсәтегез.


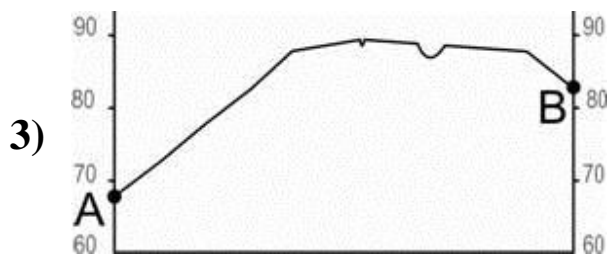

445.



Рәсемдә карта нигезендә А-В линияләре буенча төрле укучылар тарафыннан төзелгән урын рельефы профиленең вариантлары бирелгән. Профильләрнең кайсы дәрәҗәс төзелгән?

446. Рәсемдә карта нигезендә А-В линияләре буенча төрле укучылар тарафыннан төзелгән урын рельефы профиленең вариантлары бирелгән. Профильләрнең кайсы дәрәҗәс төзелгән?





447. Карта буенча А геодезик билгедән чишмәгә кадәрге туры юлдан булган аралыкны ачыклагыз. Үлчәүне шартлы билгеләрнең үзәкләре арасынан үткәрегез. Нәтижәгезне дистә метрга кадәр түгәрәкләгез. Җавабыгызны сан белән языгыз.

448. Карта буенча геодезик билгенең чишмәдән кайсы юнәлештә урнашуын билгеләгез.

449. Богучан алюминий заводы – Красноярск краеның Богучан

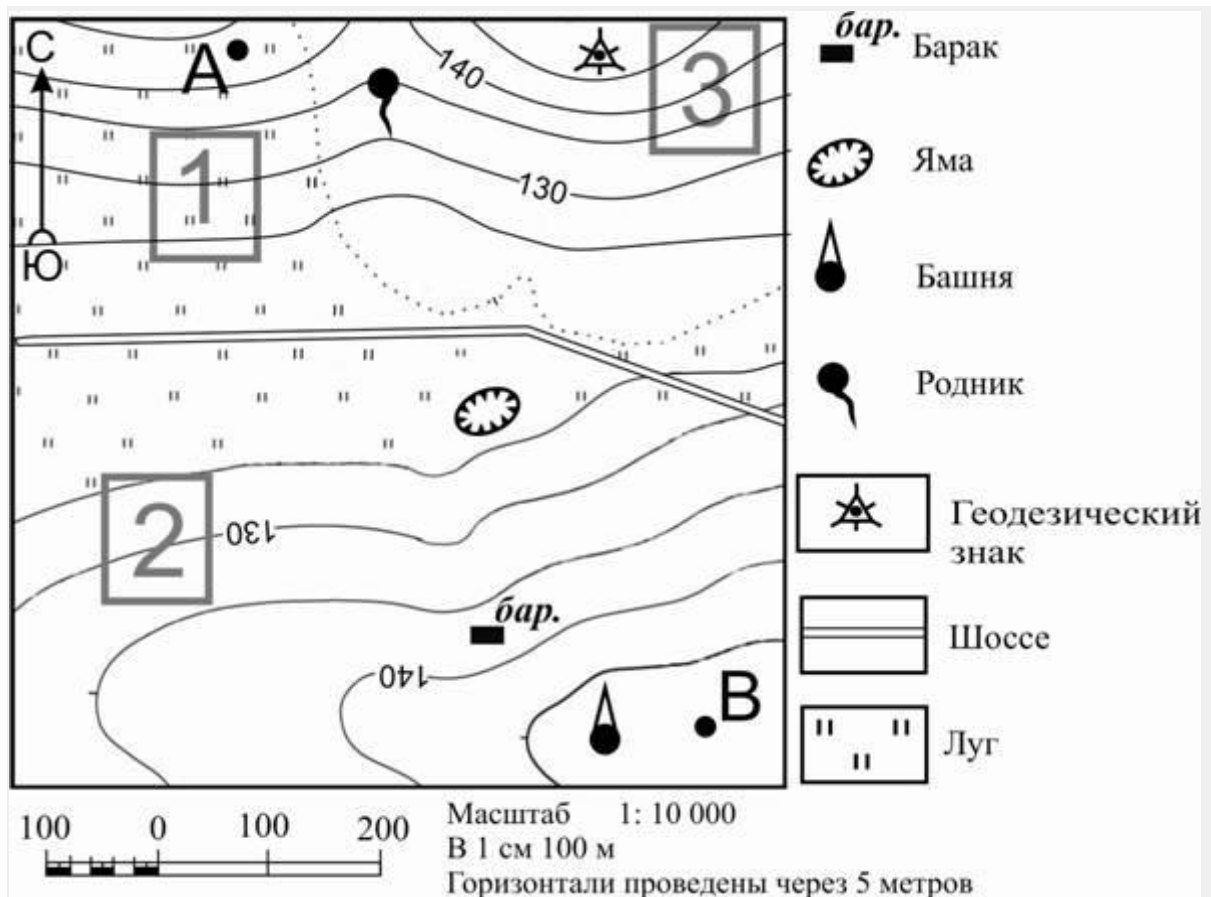
районы Таёжный поселогында төзелә торган төсле металлургия предприятиесе. Бер елга 600 мең тонна беренчел алюминийны эшкәртә алырлык егәрлекле завод Россиянең иң эре биш алюминий заводлары исемлегенә керәчәк. Богучан алюминий заводында житештерү хәзерге заман халыкара экологик таләпләргә жавап бирәчәк. Алюминий заводы төзү буенча проектны тормышка ашыру Түбән Ангара буен (Приангарья) үстерү комплекслы программасының төп элементы булчак.

Түбән Ангара буеның (Приангарья) урнашкан урынын билгеләү өчен, Россиянең кайсы географик районы картасын сайларга кирәк?

- 1) Европа Төньягы
- 2) Көнчыгыш Себер
- 3) Көнбатыш Себер
- 4) Урал

450.Түбән Ангара буе (Приангарья) промышленностеның нинди үзенчәлеге бу территорияне алюминий эретү предприятиясен урнаштыру өчен сайлауга йогынты ясый?

Жавабыгызны аерым биткә яки бланкка языгыз, башта биремегезнең номерын күрсәтегез.





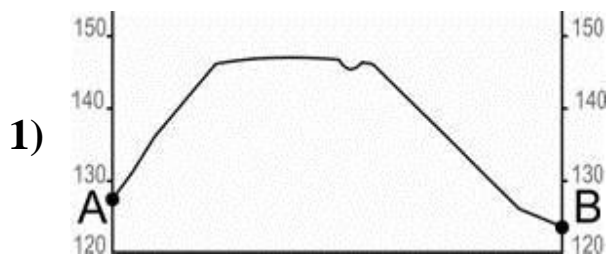
451. Фермер жыләк-жимеш бакчасы үстерү өчен жир эзли. Аңа иртә язда кары эри, жәен кояш туфрагын бик яхшы жылыта торган участок кирәк. Участок шулай ук жыелган уңышны консерв заводына чыгару өчен дә уңайлы булырга тиеш. Картада 1, 2 һәм 3 цифрлар белән бирелгән участокларның кайсы әлеге таләпләргә жавап бирә. Жавабыгызны нигезләү өчен ике дәлил китергез.

Жавабыгызны аерым биткә яки бланкка языгыз, башта биремегезнең номерын күрсәтегез.

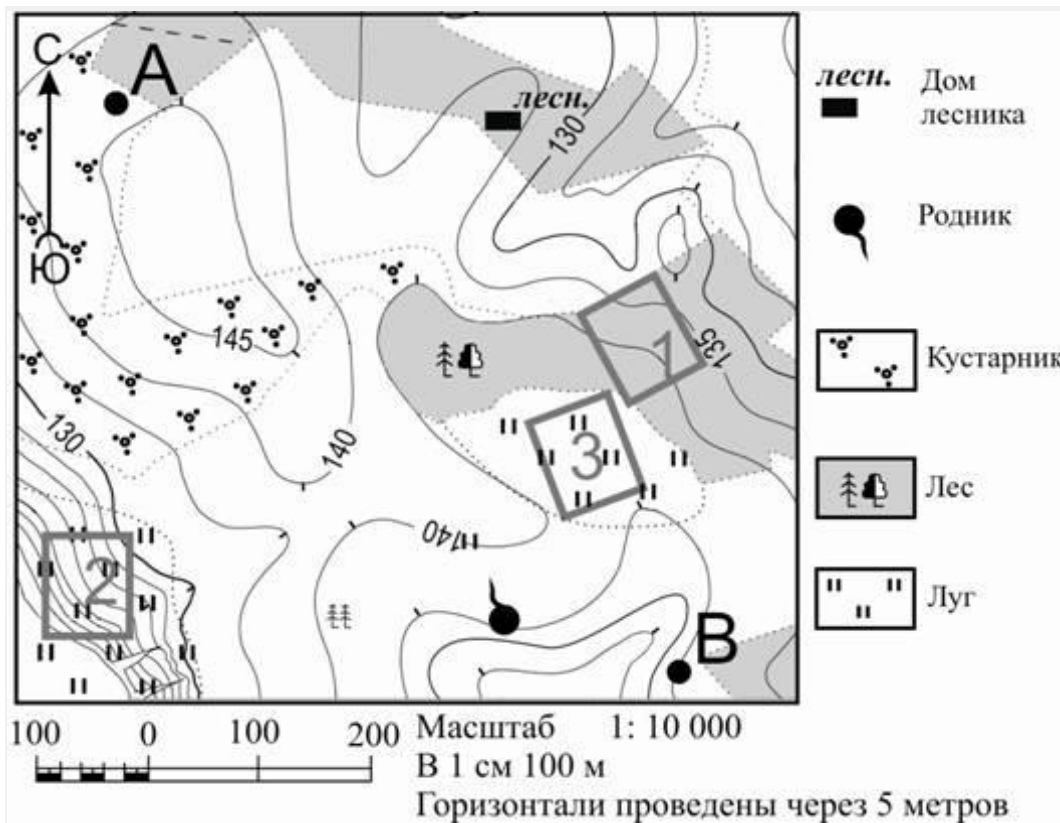

452. Карта буенча геодезик билгедән чишмәгә кадәрге туры юлдан булган аралыкны ачыклагыз. Үлчәүне шартлы билгеләрнең үзәкләре арасынан үткәрегез. Нәтижәгезне дистә метрга кадәр түгәрәкләгез. Җавабыгызны сан белән языгыз.

453. Карта буенча манараның геодезик билгедән кайсы юнәлештә урнашуын билгеләгез.

454. Рәсемдә карта нигезендә А-В линияләре буенча төрле укучылар тарафыннан төзелгән урын рельефы профиленең вариантлары бирелгән. Профильләрнең кайсы дәрәҗәсә төзелгән?



4)



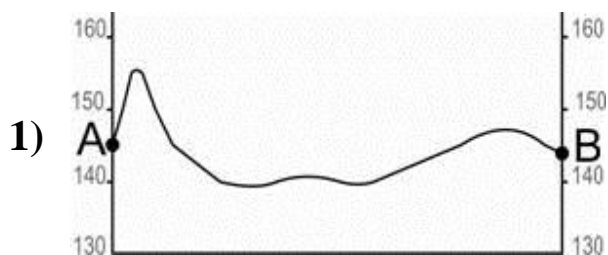


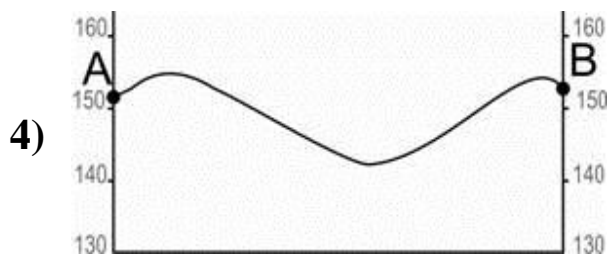
455. Карта буенча А ноктасынна чишмәгә кадәрге туры юлдан булган аралыкны ачыклагыз. Үлчәүне шартлы билгеләрнең уртасыннан үткәрегез. Нәтижәгезне дистә метрга кадәр түгәрәкләгез. Җавабыгызны сан белән языгыз.

456. Мәктәпнең футбол секциясенә йөрүчеләр футбол кыры ясау өчен урын сайлыйлар. Картада 1, 2, һәм 3 цифрлары белән бирелгән участокларның кайсы футбол кыры ясау өчен уңайлы? Жавабыгызны раслау өчен ике дәлил китерегез.

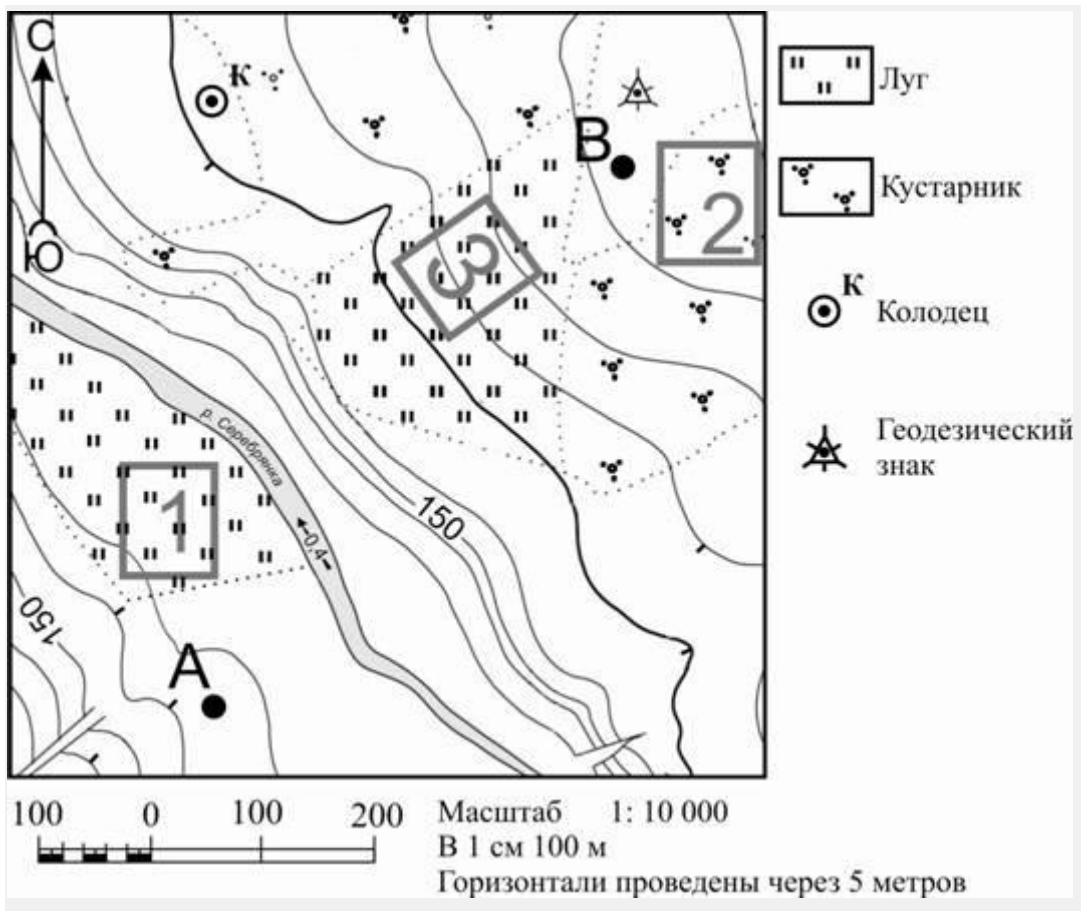
Жавабыгызны аерым биткә яки бланкка языгыз, башта биремегезнең номерын күрсәтегез.

457. Рәсемдә карта нигезендә А-В линияләре буенча төрле укучылар тарафыннан төзелгән урын рельефы профиленең вариантлары бирелгән. Профильләрнең кайсы дөрес төзелгән?





458. Карта буенча чишмәнең урман каравылчысы йортыннан кайсы юнәлештә урнашуын билгеләгез.






459. Мәктәпнең футбол секциясенә йөрүчеләр футбол кыры ясау өчен урын сайлыйлар. Картада 1, 2, һәм 3 цифрлары белән бирелгән участокларның кайсы футбол кыры ясау өчен уңайлы?


Жавабыгызны раслау өчен ике дәлил китерегез.

Жавабыгызны аерым биткә яки бланкка языгыз, башта биремегезнең номерын күрсәтегез.

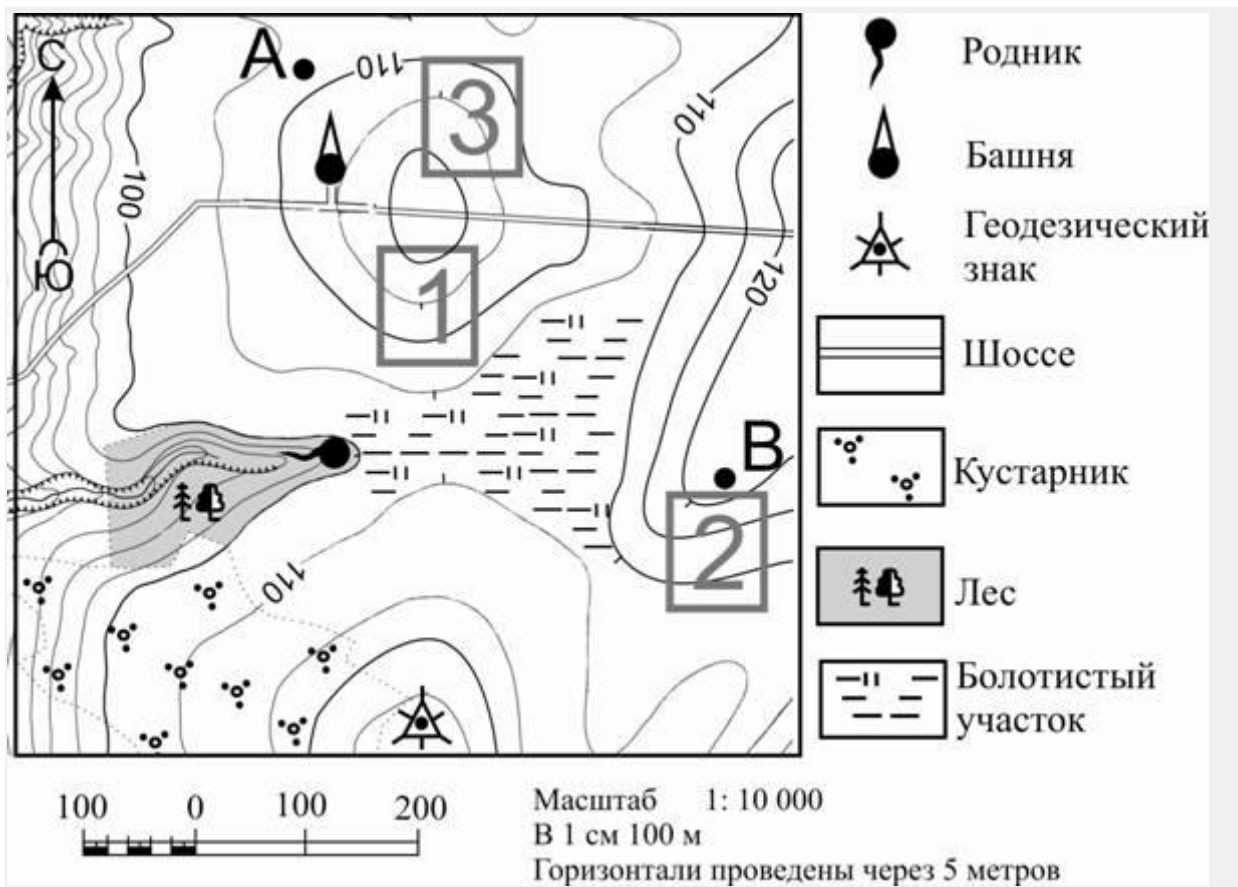
460. Карта буенча чишмәдән урман каравылчысы йортына кадәрге туры юлдан булган аралыкны ачыклагыз. Үлчәүне шартлы билгеләрнең үзәкләре арасынан үткәрегез. Нәтижәгезне дистә метрга кадәр түгәрәкләгез. Жавабыгызны сан белән языгыз.

461. Рәсемдә карта нигезендә А-В линияләре буенча төрле укучылар тарафыннан төзелгән урын рельефы профиленең вариантлары бирелгән. Профильләрнең кайсы дәрәс төзелгән?





462. Карта буенча чишмәнең геодезик билгедән кайсы юнәлештә урнашуын билгеләгез.





463. Фермер жиләк-жимеш бакчасы үстерү өчен жир эзли. Аңа



иртә язда кары эри, жәен кояш туфрагын бик яхшы жылыта торган участок кирәк. Участок шулай ук жыелган уңышны консерв заводына чыгару өчен дә уңайлы булырга тиеш. Картада 1, 2 һәм 3 цифрлар белән бирелгән участокларның кайсы әлеге таләпләргә җавап бирә. Җавабыгызны нигезләү өчен ике дәлил китерегез.

Җавабыгызны аерым биткә яки бланкка языгыз, башта биремегезнең номерын күрсәтегез.

464. Карта буенча геодезик билгедән В ноктасына кадәрге туры юлдан булган аралыкны ачыклагыз. Үлчәүне шартлы билгеләрнең үзәкләре арасынан үткәрегез. Нәтижәгезне дистә метрга кадәр түгәрәкләгез. Җавабыгызны сан белән языгыз.

465. Рәсемдә карта нигезендә А-В линияләре буенча төрле укучылар тарафыннан төзелгән урын рельефы профиленең вариантлары бирелгән. Профильләрнең кайсы дөрөс төзелгән?





466. Карта буенча чишмәнең манарадан кайсы юнәлештә урнашуын билгеләгез.

467. Ставрополь краенда 2011–2015 нче елларда шикәр заводы төзү буенча берничә проект тормышка ашырыла. Мисал өчен Кочубей һәм Новоалександровск районнарында ике комплекс төзелә. Яңа заводлар төзү белән беррәттән регионда ОАО «Ставропольсахар» предприятиясен модернизацияләү планлаштырыла.

Ставрополь краеның урнашкан урынын җентеклерәк өйрәнү өчен, кайсы географик районның картасын сайлап алырга кирәк?

- 1) Идел буе
- 2) Үзәк Россия
- 3) Россиянең Төнъяк- Көнбатышы
- 4) Европа Көнъягы

468. Рязань шәһәре урнашкан регионны жентеклерәк өйрәнү өчен Россиянең кайсы географик районы картасын сайларга кирәк?

- 1) Идел буе
 - 2) Үзәк Россия
 - 3) Европа Көнъягы
 - 4) Россиянең Төнъяк -Көнбатышы
-

469. Ставрополь краенда шикәр заводларын урнаштыруга авыл хужалыгының нинди үзенчәлеге йогынты ясый?

Жавабыгызны аерым биткә яки бланкка языгыз, башта

биремегезнең номерын күрсәтегез.

470. ОАО «Акрон» составына керә торган Новгород химия комбинаты (Бөек Новгород шәһәре), Россиядәге иң эре азот ашламалары житештерүче булып тора. Предприятие даими рәвештә житештерү күләме үсешен демонстрацияли. ОАО«Акрон» продукциясенә эчке базарда да, халыкара базарда да ихтыяж зур.

Бөек Новгород урнашкан регионны жентеклерәк өйрәнү өчен, Россиянең кайсы географик районы картасын сайлап алырга кирәк?

- 1) Төньяк – Көнбатыш
- 2) Урал
- 3) Идел буе
- 4) Европа Төньягы

471. Азотлы ашламаларны житештерү өчен бик күп чимал таләп ителә. Химик комбинатны азотлы ашламалар житештерү өчен кирәкле чимал белән тулысынча тәмин ителеше Бөек Новгородның нинди ЭГП үзенчәлеген тәшкил итә? Жавабыгызны

аерым биткә яки бланкка языгыз, башта биремегезнең номерын күрсәтегез.

472. Новомосковск шәһәре урнашкан регионны жентеклерәк өйрәнү өчен Россиянең кайсы географик районы картасын сайларга кирәк?

- 1) Тула өлкәсе
 - 2) Смоленск өлкәсе
 - 3) Пермь крае
 - 4) Воронеж өлкәсе
-
-